

ELEMENTS DE CORRECTION



MINISTÈRE DE
L'ÉDUCATION NATIONALE

MINISTÈRE DE
L'ENSEIGNEMENT SUPÉRIEUR
ET DE LA RECHERCHE



Olympiades académiques de mathématiques

Classes de quatrième

Concours René Merckhoffer

Jeudi 3 avril 2014

Durée de l'épreuve : 2 heures.

Les calculatrices sont autorisées.

Les quatre exercices sont à traiter. Les candidats sont invités à faire figurer sur les copies les résultats, même partiels, auxquels ils sont parvenus, et les idées qui leur sont venues.

Exercice 1 : des pyramides de Pascal

1. a. On complète l'exemple de pyramide de Pascal donné en exemple par le sujet :

		7		2								
		7		9		2						
		7		16		11		2				
		7		23		27		13		2		
		7		30		50		40		15		2

- b. On obtient $L_1 = 9$ sur la 1^{ère} ligne, $L_2 = 18$ sur la 2^{ème} ligne, $L_3 = 36$ sur la 3^{ème} ligne, $L_4 = 72$ sur la 4^{ème} ligne et $L_5 = 144$ sur la 5^{ème} ligne.
On remarque que la somme double lorsque l'on passe d'une ligne à celle située en dessous.

2. Si l'on considère la pyramide de Pascal associée aux nombres entiers $m = 1$ et $n = 1$, alors sur la 1^{ère} ligne la somme des nombres est égale à 2.

D'après la règle vue ci-dessus, la somme des nombres sera égale à :

$4 = 2^2$ sur la 2^{ème} ligne, $8 = 2^3$ sur la 3^{ème} ligne, ..., $256 = 2^8$ sur la 8^{ème} ligne, $512 = 2^9$ sur la 9^{ème} ligne et enfin $1024 = 2^{10}$ sur la dixième ligne.

3. Si on remplit la pyramide de Pascal avec deux nombres entiers positifs m et n , on obtient :

		m		n							
		m		m+n		n					
		m		2m+n		m+2n		n			
		m		3m+n		3m+3n		m+3n		n	
		m									n

La somme des nombres de la troisième ligne est égale à $S = 4m + 4n$ et la somme des nombres sur la quatrième ligne est égale à $S' = 8m + 8n = 2(4m + 4n) = 2S$

4. Si on note n le nombre entier inconnu sur la première ligne, on obtient :

		3		n								
		3		3+n		n						
		3		6+n		3+2n		n				
		3		9+n		9+3n		3+3n		n		
		3		12+n		46		12+6n		3+4n		n

Par conséquent, selon les règles de la pyramide : $(9 + n) + (9 + 3n) = 46$ soit $n = 7$.

On obtient aisément la pyramide en remplaçant n par 7

Exercice 2 : la frise

En assemblant les quatre premières formes (une blanche, une grise claire, une grise foncée puis une hachurée), Christophe a obtenu un motif dont le périmètre est égal à 42cm. Afin de réaliser la frise dans son ensemble, il peut, dans un premier temps, construire dix motifs identiques au précédent. Il doit ensuite les assembler les uns à la suite des autres. Du fait de l'emboîtement des deux pièces (respectivement hachurée et blanche), pour chaque nouveau motif ajouté, le périmètre de l'ensemble augmente de $32 = 42 - 10$.

Au final, lorsqu'il aura assemblé les dix motifs (c'est-à-dire les 40 formes découpées), le périmètre du puzzle sera égale à $P = 42 + 9 \times 32 = 330$ (ou $P = 10 \times 42 - 9 \times 10$)

Exercice 3 : le tableau

De nombreuses propriétés peuvent être observées et conjecturées dans le tableau : l'une d'elles consiste à remarquer que l'on peut parcourir les cases successivement en rajoutant +3 à chaque étape afin d'obtenir la suite des nombres entiers du tableau. En remarquant alors que :

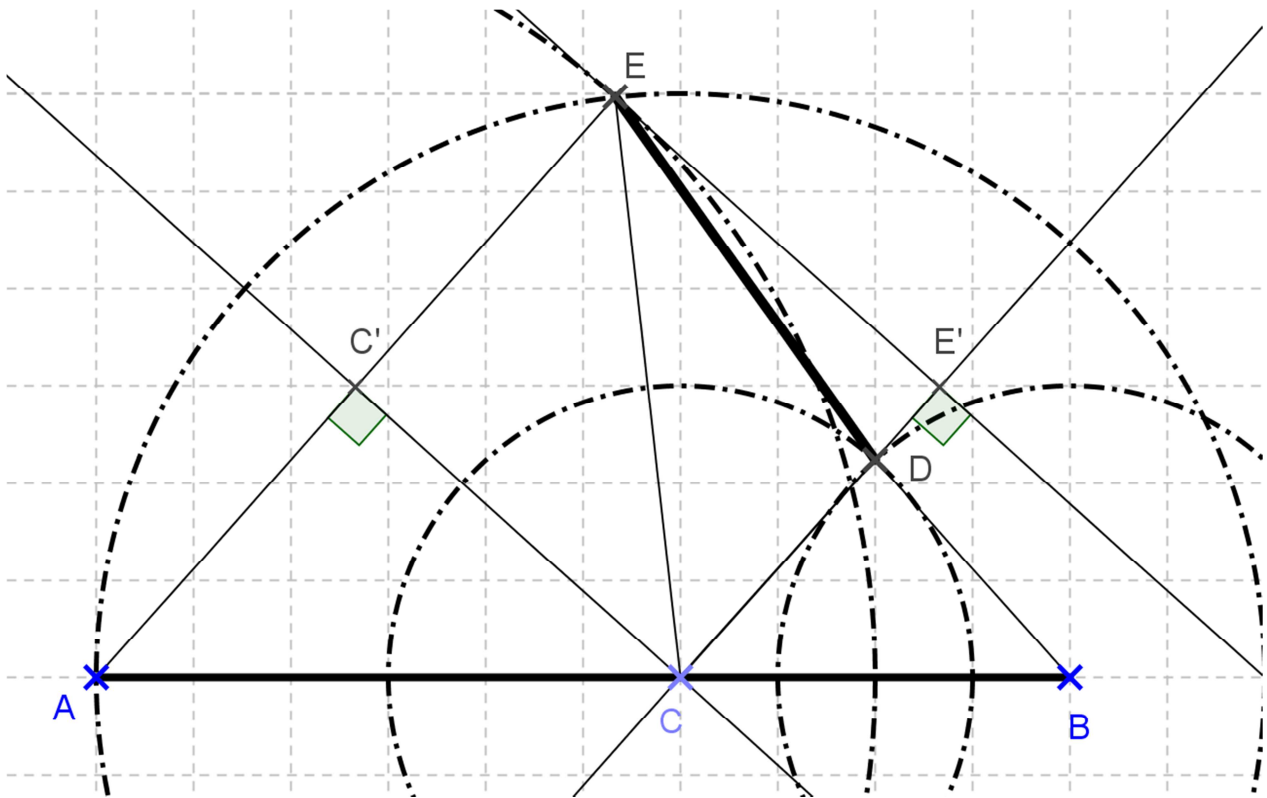
$$2014 = 1 + 671 \times 3$$

On peut affirmer que 2014 se trouvera dans le tableau à la 672^{ème} case (si on le remplit en inscrivant les nombres entiers du tableau dans un ordre croissant à partir de la 1^{ère} case contenant l'entier 1).

On peut alors ensuite remarquer que pour remplir deux lignes, il y a 8 cases. Or $672 = 84 \times 8$! la 672^{ème} case se trouve donc sur la colonne A et sur la 84^{ème} ligne.

A	B	C	D	E
	1	4	7	
22	19	16	13	10
	25	28	31	
46	43	40	37	34
	49	52	55	
70	67	64	61	58

Exercice 4 : d'une distance à l'autre



La correction doit absolument valoriser l'engagement dans une démarche et la réalisation de celle-ci. Ainsi, toute conjecture illustrée par un dessin sera prise en compte dans votre évaluation. Parmi les différentes démarches possibles, l'une d'elles consiste à démontrer que les droites (AE) et (CD) sont parallèles (ACDE est un trapèze) :

Les triangles BCD et CAE sont isocèles respectivement en D et en C donc

$$\cos(\widehat{BCD}) = \frac{2}{3} = \frac{4}{6} = \cos(\widehat{CAE}).$$

Les angles \widehat{BCD} et \widehat{CAE} sont donc égaux et les droites (AE) et (CD) sont parallèles.

Si on appelle C' le milieu du segment [AE] et E' le projeté orthogonal du point E sur la droite (CD), alors $CC'EE'$ est un rectangle avec $CE' = C'E = 4$ et $CC' = EE' = 2\sqrt{5}$.

On obtient la longueur DE dans le triangle rectangle DEE' : $DE = \sqrt{21}$ (on a $DE' = 4 - 3 = 1$)

ELEMENTS DE CORRECTION



MINISTÈRE DE
L'ÉDUCATION NATIONALE

MINISTÈRE DE
L'ENSEIGNEMENT SUPÉRIEUR
ET DE LA RECHERCHE



Olympiades académiques de mathématiques

Classes de quatrième

Concours René Merckhoffer

Jeudi 3 avril 2014

Durée de l'épreuve : 2 heures.

Les calculatrices sont autorisées.

Les quatre exercices sont à traiter. Les candidats sont invités à faire figurer sur les copies les résultats, même partiels, auxquels ils sont parvenus, et les idées qui leur sont venues.

Exercice 1 : des pyramides de Pascal

1. a. On complète l'exemple de pyramide de Pascal donné en exemple par le sujet :

7		2									
7		9	2								
7		16		11	2						
7		23		27		13		2			
7		30		50		40		15		2	

- b. On obtient $L_1 = 9$ sur la 1^{ère} ligne, $L_2 = 18$ sur la 2^{ème} ligne, $L_3 = 36$ sur la 3^{ème} ligne, $L_4 = 72$ sur la 4^{ème} ligne et $L_5 = 144$ sur la 5^{ème} ligne.
On remarque que la somme double lorsque l'on passe d'une ligne à celle située en dessous.

2. Si l'on considère la pyramide de Pascal associée aux nombres entiers $m = 1$ et $n = 1$, alors sur la 1^{ère} ligne la somme des nombres est égale à 2.

D'après la règle vue ci-dessus, la somme des nombres sera égale à :

$4 = 2^2$ sur la 2^{ème} ligne, $8 = 2^3$ sur la 3^{ème} ligne, ..., $256 = 2^8$ sur la 8^{ème} ligne, $512 = 2^9$ sur la 9^{ème} ligne et enfin $1024 = 2^{10}$ sur la dixième ligne.

3. Si on remplit la pyramide de Pascal avec deux nombres entiers positifs m et n , on obtient :

m		n							
m		m+n		n					
m		2m+n		m+2n		n			
m		3m+n		3m+3n		m+3n		n	
m								n	

La somme des nombres de la troisième ligne est égale à $S = 4m + 4n$ et la somme des nombres sur la quatrième ligne est égale à $S' = 8m + 8n = 2(4m + 4n) = 2S$

4. Si on note n le nombre entier inconnu sur la première ligne, on obtient :

3		n									
3		3 + n		n							
3		6 + n		3 + 2n		n					
3		9 + n		9 + 3n		3 + 3n		n			
3		12 + n		46		12 + 6n		3 + 4n		n	

Par conséquent, selon les règles de la pyramide : $(9 + n) + (9 + 3n) = 46$ soit $n = 7$.

On obtient aisément la pyramide en remplaçant n par 7

Exercice 2 : la frise

En assemblant les quatre premières formes (une blanche, une grise claire, une grise foncée puis une hachurée), Christophe a obtenu un motif dont le périmètre est égal à 42cm. Afin de réaliser la frise dans son ensemble, il peut, dans un premier temps, construire dix motifs identiques au précédent. Il doit ensuite les assembler les uns à la suite des autres. Du fait de l'emboîtement des deux pièces (respectivement hachurée et blanche), pour chaque nouveau motif ajouté, le périmètre de l'ensemble augmente de $32 = 42 - 10$.

Au final, lorsqu'il aura assemblé les dix motifs (c'est-à-dire les 40 formes découpées), le périmètre du puzzle sera égale à $P = 42 + 9 \times 32 = 330$ (ou $P = 10 \times 42 - 9 \times 10$)

Exercice 3 : le tableau

De nombreuses propriétés peuvent être observées et conjecturées dans le tableau : l'une d'elles consiste à remarquer que l'on peut parcourir les cases successivement en rajoutant +3 à chaque étape afin d'obtenir la suite des nombres entiers du tableau. En remarquant alors que :

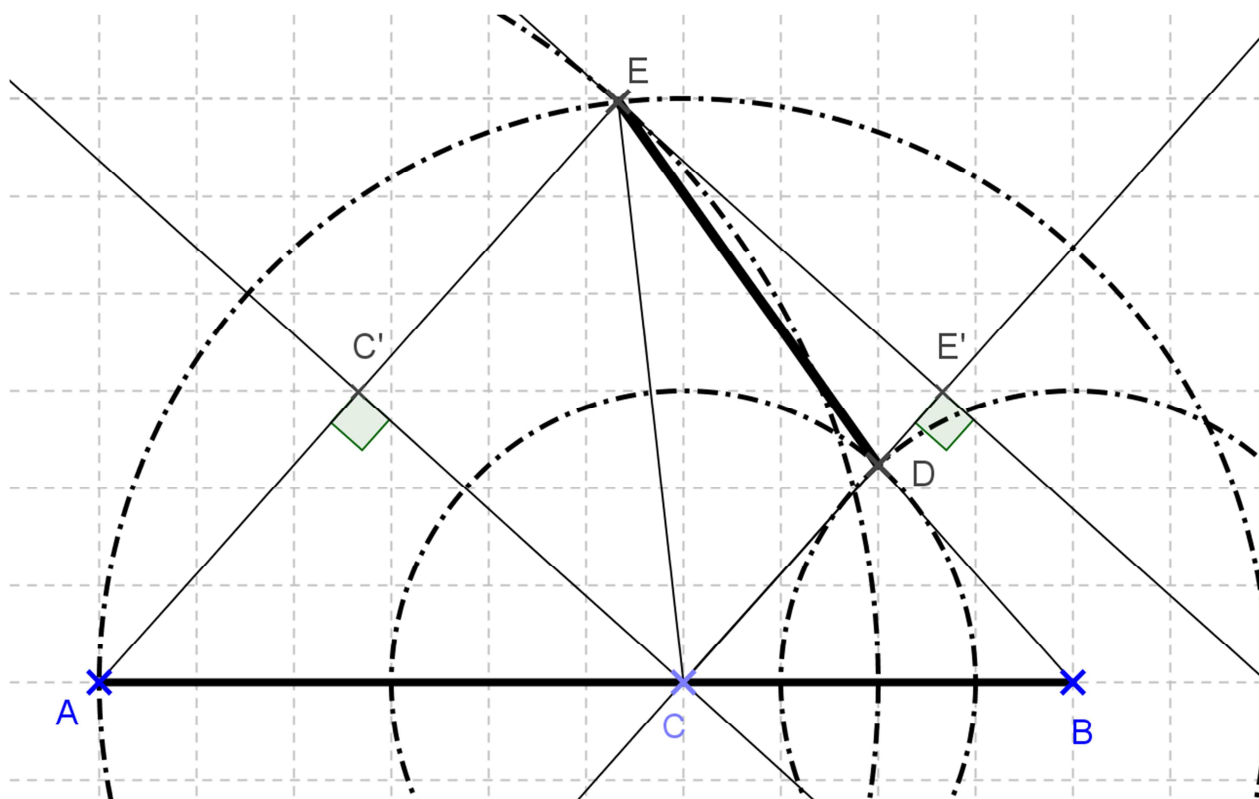
$$2014 = 1 + 671 \times 3$$

On peut affirmer que 2014 se trouvera dans le tableau à la 672^{ème} case (si on le remplit en inscrivant les nombres entiers du tableau dans un ordre croissant à partir de la 1^{ère} case contenant l'entier 1).

On peut alors ensuite remarquer que pour remplir deux lignes, il y a 8 cases. Or $672 = 84 \times 8$! la 672^{ème} case se trouve donc sur la colonne A et sur la 84^{ème} ligne.

A	B	C	D	E
	1	4	7	
22	19	16	13	10
	25	28	31	
46	43	40	37	34
	49	52	55	
70	67	64	61	58

Exercice 4 : d'une distance à l'autre



La correction doit absolument valoriser l'engagement dans une démarche et la réalisation de celle-ci. Ainsi, toute conjecture illustrée par un dessin sera prise en compte dans votre évaluation. Parmi les différentes démarches possibles, l'une d'elles consiste à démontrer que les droites (AE) et (CD) sont parallèles (ACDE est un trapèze) :

Les triangles BCD et CAE sont isocèles respectivement en D et en C donc

$$\cos(\widehat{BCD}) = \frac{2}{3} = \frac{4}{6} = \cos(\widehat{CAE}).$$

Les angles \widehat{BCD} et \widehat{CAE} sont donc égaux et les droites (AE) et (CD) sont parallèles.

Si on appelle C' le milieu du segment [AE] et E' le projeté orthogonal du point E sur la droite (CD), alors CC'EE' est un rectangle avec $CE' = C'E = 4$ et $CC' = EE' = 2\sqrt{5}$.

On obtient la longueur DE dans le triangle rectangle DEE' : $DE = \sqrt{21}$ (on a $DE' = 4 - 3 = 1$)

ELEMENTS DE CORRECTION



MINISTÈRE DE
L'ÉDUCATION NATIONALE

MINISTÈRE DE
L'ENSEIGNEMENT SUPÉRIEUR
ET DE LA RECHERCHE



Olympiades académiques de mathématiques

Classes de quatrième

Concours René Merckhoffer

Jeudi 3 avril 2014

Durée de l'épreuve : 2 heures.

Les calculatrices sont autorisées.

Les quatre exercices sont à traiter. Les candidats sont invités à faire figurer sur les copies les résultats, même partiels, auxquels ils sont parvenus, et les idées qui leur sont venues.

Exercice 1 : des pyramides de Pascal

1. a. On complète l'exemple de pyramide de Pascal donné en exemple par le sujet :

7		2									
7		9	2								
7		16		11	2						
7		23		27		13		2			
7		30		50		40		15		2	

- b. On obtient $L_1 = 9$ sur la 1^{ère} ligne, $L_2 = 18$ sur la 2^{ème} ligne, $L_3 = 36$ sur la 3^{ème} ligne, $L_4 = 72$ sur la 4^{ème} ligne et $L_5 = 144$ sur la 5^{ème} ligne.
On remarque que la somme double lorsque l'on passe d'une ligne à celle située en dessous.

2. Si l'on considère la pyramide de Pascal associée aux nombres entiers $m = 1$ et $n = 1$, alors sur la 1^{ère} ligne la somme des nombres est égale à 2.

D'après la règle vue ci-dessus, la somme des nombres sera égale à :

$4 = 2^2$ sur la 2^{ème} ligne, $8 = 2^3$ sur la 3^{ème} ligne, ..., $256 = 2^8$ sur la 8^{ème} ligne, $512 = 2^9$ sur la 9^{ème} ligne et enfin $1024 = 2^{10}$ sur la dixième ligne.

3. Si on remplit la pyramide de Pascal avec deux nombres entiers positifs m et n , on obtient :

m		n							
m		m+n		n					
m		2m+n		m+2n		n			
m		3m+n		3m+3n		m+3n		n	
m								n	

La somme des nombres de la troisième ligne est égale à $S = 4m + 4n$ et la somme des nombres sur la quatrième ligne est égale à $S' = 8m + 8n = 2(4m + 4n) = 2S$

4. Si on note n le nombre entier inconnu sur la première ligne, on obtient :

3		n									
3		3 + n		n							
3		6 + n		3 + 2n		n					
3		9 + n		9 + 3n		3 + 3n		n			
3		12 + n		46		12 + 6n		3 + 4n		n	

Par conséquent, selon les règles de la pyramide : $(9 + n) + (9 + 3n) = 46$ soit $n = 7$.

On obtient aisément la pyramide en remplaçant n par 7

Exercice 2 : la frise

En assemblant les quatre premières formes (une blanche, une grise claire, une grise foncée puis une hachurée), Christophe a obtenu un motif dont le périmètre est égal à 42cm. Afin de réaliser la frise dans son ensemble, il peut, dans un premier temps, construire dix motifs identiques au précédent. Il doit ensuite les assembler les uns à la suite des autres. Du fait de l'emboîtement des deux pièces (respectivement hachurée et blanche), pour chaque nouveau motif ajouté, le périmètre de l'ensemble augmente de $32 = 42 - 10$.

Au final, lorsqu'il aura assemblé les dix motifs (c'est-à-dire les 40 formes découpées), le périmètre du puzzle sera égale à $P = 42 + 9 \times 32 = 330$ (ou $P = 10 \times 42 - 9 \times 10$)

Exercice 3 : le tableau

De nombreuses propriétés peuvent être observées et conjecturées dans le tableau : l'une d'elles consiste à remarquer que l'on peut parcourir les cases successivement en rajoutant +3 à chaque étape afin d'obtenir la suite des nombres entiers du tableau. En remarquant alors que :

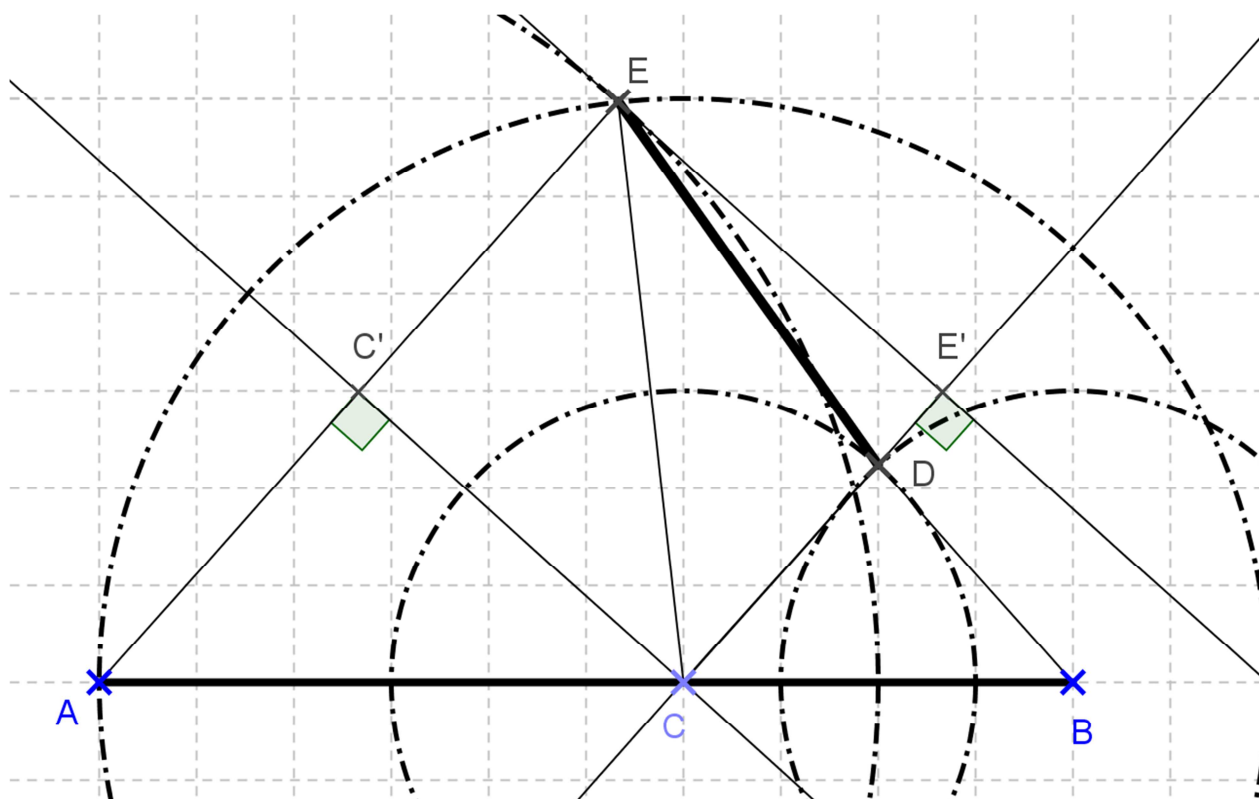
$$2014 = 1 + 671 \times 3$$

On peut affirmer que 2014 se trouvera dans le tableau à la 672^{ème} case (si on le remplit en inscrivant les nombres entiers du tableau dans un ordre croissant à partir de la 1^{ère} case contenant l'entier 1).

On peut alors ensuite remarquer que pour remplir deux lignes, il y a 8 cases. Or $672 = 84 \times 8$! la 672^{ème} case se trouve donc sur la colonne A et sur la 84^{ème} ligne.

A	B	C	D	E
	1	4	7	
22	19	16	13	10
	25	28	31	
46	43	40	37	34
	49	52	55	
70	67	64	61	58

Exercice 4 : d'une distance à l'autre



La correction doit absolument valoriser l'engagement dans une démarche et la réalisation de celle-ci. Ainsi, toute conjecture illustrée par un dessin sera prise en compte dans votre évaluation. Parmi les différentes démarches possibles, l'une d'elles consiste à démontrer que les droites (AE) et (CD) sont parallèles (ACDE est un trapèze) :

Les triangles BCD et CAE sont isocèles respectivement en D et en C donc

$$\cos(\widehat{BCD}) = \frac{2}{3} = \frac{4}{6} = \cos(\widehat{CAE}).$$

Les angles \widehat{BCD} et \widehat{CAE} sont donc égaux et les droites (AE) et (CD) sont parallèles.

Si on appelle C' le milieu du segment [AE] et E' le projeté orthogonal du point E sur la droite (CD), alors CC'EE' est un rectangle avec $CE' = C'E = 4$ et $CC' = EE' = 2\sqrt{5}$.

On obtient la longueur DE dans le triangle rectangle DEE' : $DE = \sqrt{21}$ (on a $DE' = 4 - 3 = 1$)

ELEMENTS DE CORRECTION



MINISTÈRE DE
L'ÉDUCATION NATIONALE

MINISTÈRE DE
L'ENSEIGNEMENT SUPÉRIEUR
ET DE LA RECHERCHE



Olympiades académiques de mathématiques

Classes de quatrième

Concours René Merckhoffer

Jeudi 3 avril 2014

Durée de l'épreuve : 2 heures.

Les calculatrices sont autorisées.

Les quatre exercices sont à traiter. Les candidats sont invités à faire figurer sur les copies les résultats, même partiels, auxquels ils sont parvenus, et les idées qui leur sont venues.

Exercice 1 : des pyramides de Pascal

1. a. On complète l'exemple de pyramide de Pascal donné en exemple par le sujet :

		7		2								
		7		9		2						
		7		16		11		2				
		7		23		27		13		2		
		7		30		50		40		15		2

- b. On obtient $L_1 = 9$ sur la 1^{ère} ligne, $L_2 = 18$ sur la 2^{ème} ligne, $L_3 = 36$ sur la 3^{ème} ligne, $L_4 = 72$ sur la 4^{ème} ligne et $L_5 = 144$ sur la 5^{ème} ligne.
On remarque que la somme double lorsque l'on passe d'une ligne à celle située en dessous.

2. Si l'on considère la pyramide de Pascal associée aux nombres entiers $m = 1$ et $n = 1$, alors sur la 1^{ère} ligne la somme des nombres est égale à 2.

D'après la règle vue ci-dessus, la somme des nombres sera égale à :

$4 = 2^2$ sur la 2^{ème} ligne, $8 = 2^3$ sur la 3^{ème} ligne, ..., $256 = 2^8$ sur la 8^{ème} ligne, $512 = 2^9$ sur la 9^{ème} ligne et enfin $1024 = 2^{10}$ sur la dixième ligne.

3. Si on remplit la pyramide de Pascal avec deux nombres entiers positifs m et n , on obtient :

		m		n							
		m		m+n		n					
		m		2m+n		m+2n		n			
		m		3m+n		3m+3n		m+3n		n	
		m									n

La somme des nombres de la troisième ligne est égale à $S = 4m + 4n$ et la somme des nombres sur la quatrième ligne est égale à $S' = 8m + 8n = 2(4m + 4n) = 2S$

4. Si on note n le nombre entier inconnu sur la première ligne, on obtient :

		3		n								
		3		3+n		n						
		3		6+n		3+2n		n				
		3		9+n		9+3n		3+3n		n		
		3		12+n		46		12+6n		3+4n		n

Par conséquent, selon les règles de la pyramide : $(9 + n) + (9 + 3n) = 46$ soit $n = 7$.

On obtient aisément la pyramide en remplaçant n par 7

Exercice 2 : la frise

En assemblant les quatre premières formes (une blanche, une grise claire, une grise foncée puis une hachurée), Christophe a obtenu un motif dont le périmètre est égal à 42cm. Afin de réaliser la frise dans son ensemble, il peut, dans un premier temps, construire dix motifs identiques au précédent. Il doit ensuite les assembler les uns à la suite des autres. Du fait de l'emboîtement des deux pièces (respectivement hachurée et blanche), pour chaque nouveau motif ajouté, le périmètre de l'ensemble augmente de $32 = 42 - 10$.

Au final, lorsqu'il aura assemblé les dix motifs (c'est-à-dire les 40 formes découpées), le périmètre du puzzle sera égale à $P = 42 + 9 \times 32 = 330$ (ou $P = 10 \times 42 - 9 \times 10$)

Exercice 3 : le tableau

De nombreuses propriétés peuvent être observées et conjecturées dans le tableau : l'une d'elles consiste à remarquer que l'on peut parcourir les cases successivement en rajoutant +3 à chaque étape afin d'obtenir la suite des nombres entiers du tableau. En remarquant alors que :

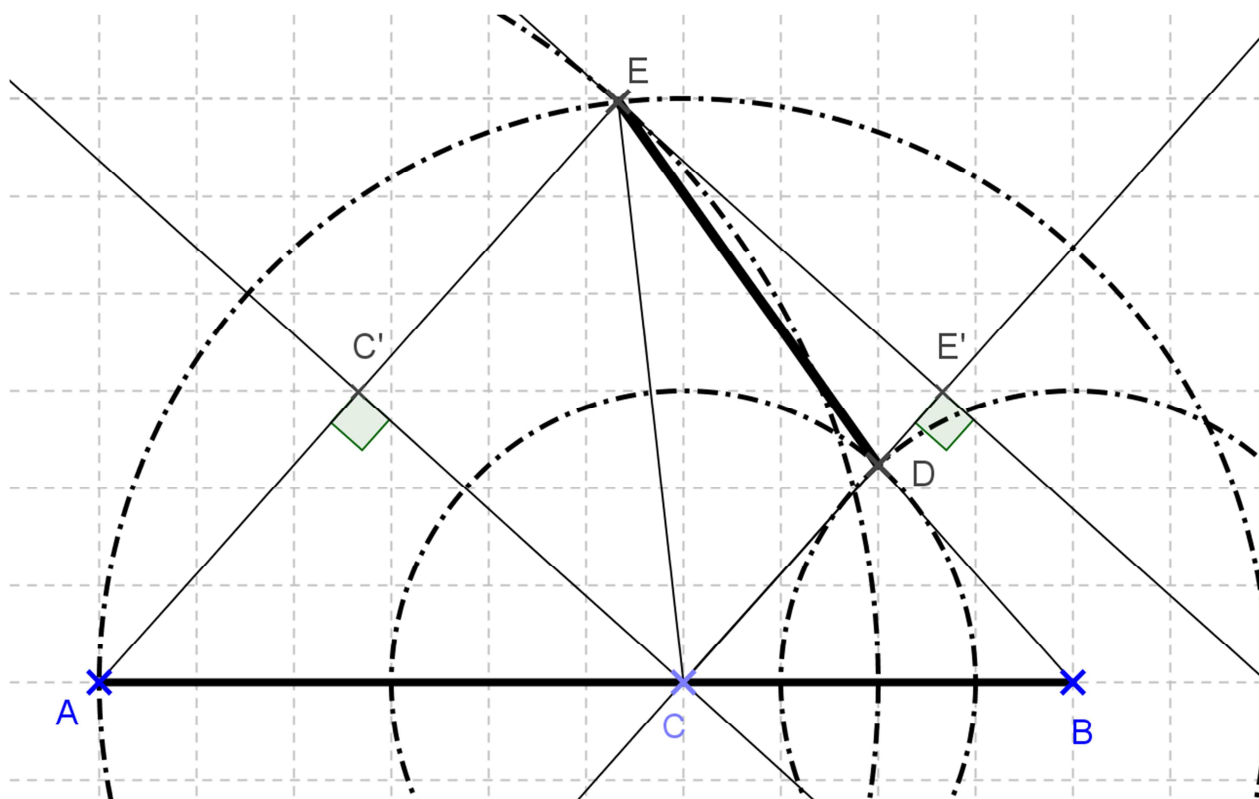
$$2014 = 1 + 671 \times 3$$

On peut affirmer que 2014 se trouvera dans le tableau à la 672^{ème} case (si on le remplit en inscrivant les nombres entiers du tableau dans un ordre croissant à partir de la 1^{ère} case contenant l'entier 1).

On peut alors ensuite remarquer que pour remplir deux lignes, il y a 8 cases. Or $672 = 84 \times 8$! la 672^{ème} case se trouve donc sur la colonne A et sur la 84^{ème} ligne.

A	B	C	D	E
	1	4	7	
22	19	16	13	10
	25	28	31	
46	43	40	37	34
	49	52	55	
70	67	64	61	58

Exercice 4 : d'une distance à l'autre



La correction doit absolument valoriser l'engagement dans une démarche et la réalisation de celle-ci. Ainsi, toute conjecture illustrée par un dessin sera prise en compte dans votre évaluation. Parmi les différentes démarches possibles, l'une d'elles consiste à démontrer que les droites (AE) et (CD) sont parallèles (ACDE est un trapèze) :

Les triangles BCD et CAE sont isocèles respectivement en D et en C donc

$$\cos(\widehat{BCD}) = \frac{2}{3} = \frac{4}{6} = \cos(\widehat{CAE}).$$

Les angles \widehat{BCD} et \widehat{CAE} sont donc égaux et les droites (AE) et (CD) sont parallèles.

Si on appelle C' le milieu du segment [AE] et E' le projeté orthogonal du point E sur la droite (CD), alors CC'EE' est un rectangle avec $CE' = C'E = 4$ et $CC' = EE' = 2\sqrt{5}$.

On obtient la longueur DE dans le triangle rectangle DEE' : $DE = \sqrt{21}$ (on a $DE' = 4 - 3 = 1$)

ELEMENTS DE CORRECTION



MINISTÈRE DE
L'ÉDUCATION NATIONALE

MINISTÈRE DE
L'ENSEIGNEMENT SUPÉRIEUR
ET DE LA RECHERCHE



Olympiades académiques de mathématiques

Classes de quatrième

Concours René Merckhoffer

Jeudi 3 avril 2014

Durée de l'épreuve : 2 heures.

Les calculatrices sont autorisées.

Les quatre exercices sont à traiter. Les candidats sont invités à faire figurer sur les copies les résultats, même partiels, auxquels ils sont parvenus, et les idées qui leur sont venues.

Exercice 1 : des pyramides de Pascal

1. a. On complète l'exemple de pyramide de Pascal donné en exemple par le sujet :

7		2									
7		9		2							
7		16		11		2					
7		23		27		13		2			
7		30		50		40		15		2	

- b. On obtient $L_1 = 9$ sur la 1^{ère} ligne, $L_2 = 18$ sur la 2^{ème} ligne, $L_3 = 36$ sur la 3^{ème} ligne, $L_4 = 72$ sur la 4^{ème} ligne et $L_5 = 144$ sur la 5^{ème} ligne.
On remarque que la somme double lorsque l'on passe d'une ligne à celle située en dessous.

2. Si l'on considère la pyramide de Pascal associée aux nombres entiers $m = 1$ et $n = 1$, alors sur la 1^{ère} ligne la somme des nombres est égale à 2.

D'après la règle vue ci-dessus, la somme des nombres sera égale à :

$4 = 2^2$ sur la 2^{ème} ligne, $8 = 2^3$ sur la 3^{ème} ligne, ..., $256 = 2^8$ sur la 8^{ème} ligne, $512 = 2^9$ sur la 9^{ème} ligne et enfin $1024 = 2^{10}$ sur la dixième ligne.

3. Si on remplit la pyramide de Pascal avec deux nombres entiers positifs m et n , on obtient :

m		n							
m		$m+n$		n					
m		$2m+n$		$m+2n$		n			
m		$3m+n$		$3m+3n$		$m+3n$		n	
m								n	

La somme des nombres de la troisième ligne est égale à $S = 4m + 4n$ et la somme des nombres sur la quatrième ligne est égale à $S' = 8m + 8n = 2(4m + 4n) = 2S$

4. Si on note n le nombre entier inconnu sur la première ligne, on obtient :

3		n									
3		$3 + n$		n							
3		$6 + n$		$3 + 2n$		n					
3		$9 + n$		$9 + 3n$		$3 + 3n$		n			
3		$12 + n$		46		$12 + 6n$		$3 + 4n$		n	

Par conséquent, selon les règles de la pyramide : $(9 + n) + (9 + 3n) = 46$ soit $n = 7$.

On obtient aisément la pyramide en remplaçant n par 7

Exercice 2 : la frise

En assemblant les quatre premières formes (une blanche, une grise claire, une grise foncée puis une hachurée), Christophe a obtenu un motif dont le périmètre est égal à 42cm. Afin de réaliser la frise dans son ensemble, il peut, dans un premier temps, construire dix motifs identiques au précédent. Il doit ensuite les assembler les uns à la suite des autres. Du fait de l'emboîtement des deux pièces (respectivement hachurée et blanche), pour chaque nouveau motif ajouté, le périmètre de l'ensemble augmente de $32 = 42 - 10$.

Au final, lorsqu'il aura assemblé les dix motifs (c'est-à-dire les 40 formes découpées), le périmètre du puzzle sera égale à $P = 42 + 9 \times 32 = 330$ (ou $P = 10 \times 42 - 9 \times 10$)

Exercice 3 : le tableau

De nombreuses propriétés peuvent être observées et conjecturées dans le tableau : l'une d'elles consiste à remarquer que l'on peut parcourir les cases successivement en rajoutant +3 à chaque étape afin d'obtenir la suite des nombres entiers du tableau. En remarquant alors que :

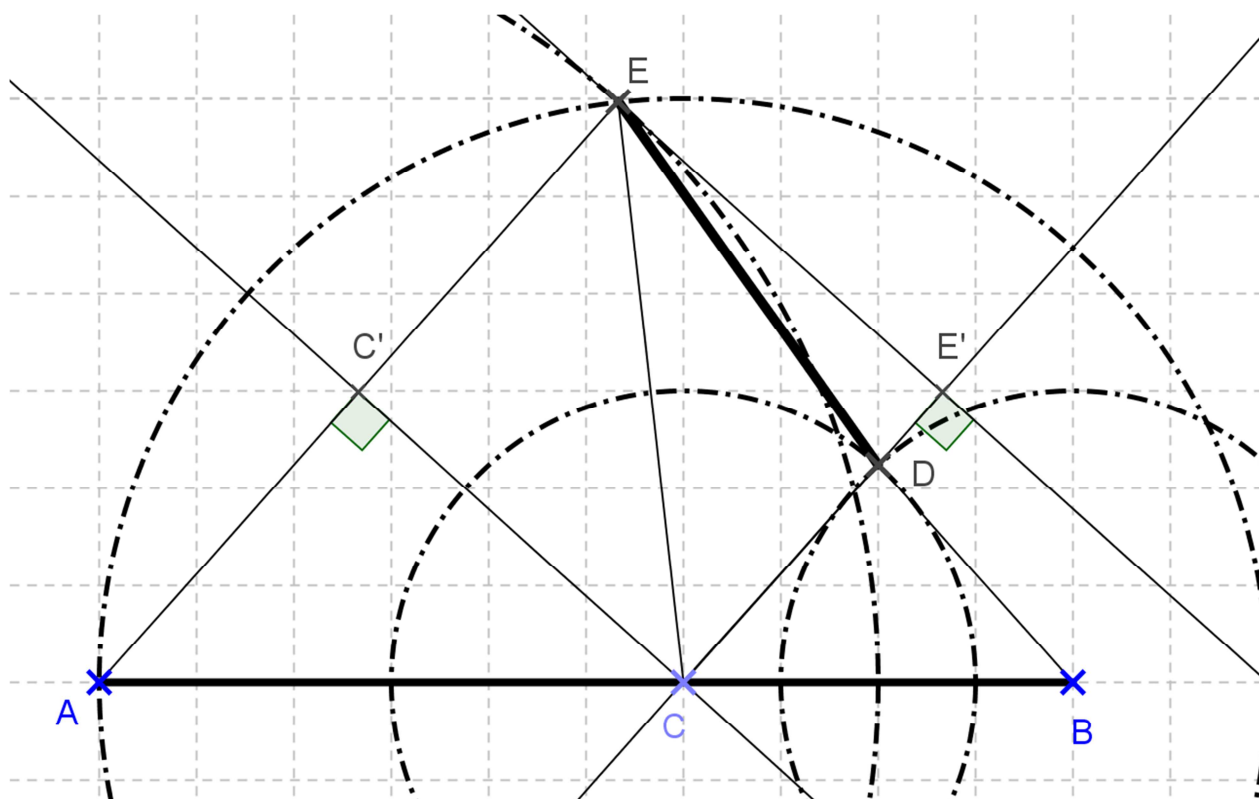
$$2014 = 1 + 671 \times 3$$

On peut affirmer que 2014 se trouvera dans le tableau à la 672^{ème} case (si on le remplit en inscrivant les nombres entiers du tableau dans un ordre croissant à partir de la 1^{ère} case contenant l'entier 1).

On peut alors ensuite remarquer que pour remplir deux lignes, il y a 8 cases. Or $672 = 84 \times 8$! la 672^{ème} case se trouve donc sur la colonne A et sur la 84^{ème} ligne.

A	B	C	D	E
	1	4	7	
22	19	16	13	10
	25	28	31	
46	43	40	37	34
	49	52	55	
70	67	64	61	58

Exercice 4 : d'une distance à l'autre



La correction doit absolument valoriser l'engagement dans une démarche et la réalisation de celle-ci. Ainsi, toute conjecture illustrée par un dessin sera prise en compte dans votre évaluation. Parmi les différentes démarches possibles, l'une d'elles consiste à démontrer que les droites (AE) et (CD) sont parallèles (ACDE est un trapèze) :

Les triangles BCD et CAE sont isocèles respectivement en D et en C donc

$$\cos(\widehat{BCD}) = \frac{2}{3} = \frac{4}{6} = \cos(\widehat{CAE}).$$

Les angles \widehat{BCD} et \widehat{CAE} sont donc égaux et les droites (AE) et (CD) sont parallèles.

Si on appelle C' le milieu du segment [AE] et E' le projeté orthogonal du point E sur la droite (CD), alors CC'EE' est un rectangle avec $CE' = C'E = 4$ et $CC' = EE' = 2\sqrt{5}$.

On obtient la longueur DE dans le triangle rectangle DEE' : $DE = \sqrt{21}$ (on a $DE' = 4 - 3 = 1$)

ELEMENTS DE CORRECTION



MINISTÈRE DE
L'ÉDUCATION NATIONALE

MINISTÈRE DE
L'ENSEIGNEMENT SUPÉRIEUR
ET DE LA RECHERCHE



Olympiades académiques de mathématiques

Classes de quatrième

Concours René Merckhoffer

Jeudi 3 avril 2014

Durée de l'épreuve : 2 heures.

Les calculatrices sont autorisées.

Les quatre exercices sont à traiter. Les candidats sont invités à faire figurer sur les copies les résultats, même partiels, auxquels ils sont parvenus, et les idées qui leur sont venues.

Exercice 1 : des pyramides de Pascal

1. a. On complète l'exemple de pyramide de Pascal donné en exemple par le sujet :

7		2															
7		9		2													
7			16		11		2										
7				23			27		13		2						
7					30				50			40		15		2	

- b. On obtient $L_1 = 9$ sur la 1^{ère} ligne, $L_2 = 18$ sur la 2^{ème} ligne, $L_3 = 36$ sur la 3^{ème} ligne, $L_4 = 72$ sur la 4^{ème} ligne et $L_5 = 144$ sur la 5^{ème} ligne.
On remarque que la somme double lorsque l'on passe d'une ligne à celle située en dessous.

2. Si l'on considère la pyramide de Pascal associée aux nombres entiers $m = 1$ et $n = 1$, alors sur la 1^{ère} ligne la somme des nombres est égale à 2.

D'après la règle vue ci-dessus, la somme des nombres sera égale à :

$4 = 2^2$ sur la 2^{ème} ligne, $8 = 2^3$ sur la 3^{ème} ligne, ..., $256 = 2^8$ sur la 8^{ème} ligne, $512 = 2^9$ sur la 9^{ème} ligne et enfin $1024 = 2^{10}$ sur la dixième ligne.

3. Si on remplit la pyramide de Pascal avec deux nombres entiers positifs m et n , on obtient :

m		n											
m		m+n		n									
m			2m+n		m+2n		n						
m				3m+n			3m+3n		m+3n		n		
m												n	

La somme des nombres de la troisième ligne est égale à $S = 4m + 4n$ et la somme des nombres sur la quatrième ligne est égale à $S' = 8m + 8n = 2(4m + 4n) = 2S$

4. Si on note n le nombre entier inconnu sur la première ligne, on obtient :

3		n															
3		3 + n		n													
3			6 + n		3 + 2n		n										
3				9 + n			9 + 3n		3 + 3n		n						
3					12 + n				46			12 + 6n		3 + 4n		n	

Par conséquent, selon les règles de la pyramide : $(9 + n) + (9 + 3n) = 46$ soit $n = 7$.

On obtient aisément la pyramide en remplaçant n par 7

Exercice 2 : la frise

En assemblant les quatre premières formes (une blanche, une grise claire, une grise foncée puis une hachurée), Christophe a obtenu un motif dont le périmètre est égal à 42cm. Afin de réaliser la frise dans son ensemble, il peut, dans un premier temps, construire dix motifs identiques au précédent. Il doit ensuite les assembler les uns à la suite des autres. Du fait de l'emboîtement des deux pièces (respectivement hachurée et blanche), pour chaque nouveau motif ajouté, le périmètre de l'ensemble augmente de $32 = 42 - 10$.

Au final, lorsqu'il aura assemblé les dix motifs (c'est-à-dire les 40 formes découpées), le périmètre du puzzle sera égale à $P = 42 + 9 \times 32 = 330$ (ou $P = 10 \times 42 - 9 \times 10$)

Exercice 3 : le tableau

De nombreuses propriétés peuvent être observées et conjecturées dans le tableau : l'une d'elles consiste à remarquer que l'on peut parcourir les cases successivement en rajoutant +3 à chaque étape afin d'obtenir la suite des nombres entiers du tableau. En remarquant alors que :

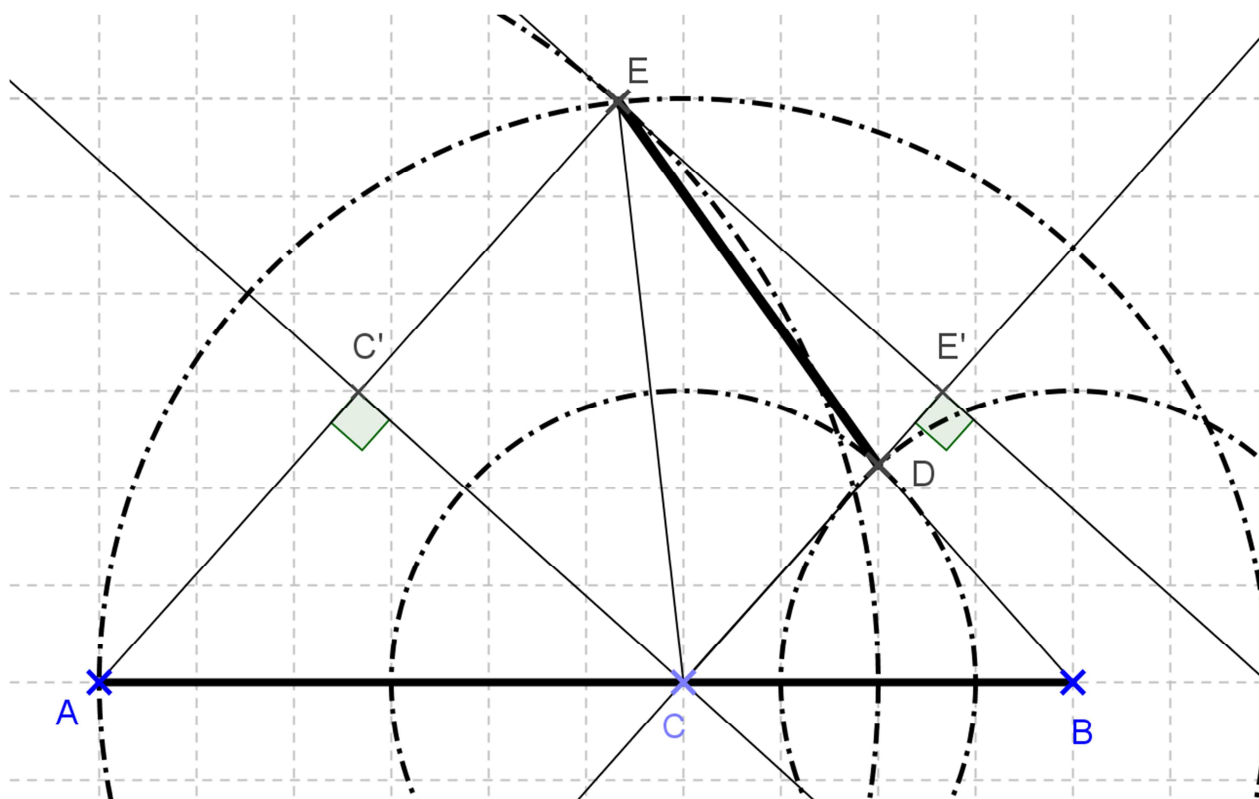
$$2014 = 1 + 671 \times 3$$

On peut affirmer que 2014 se trouvera dans le tableau à la 672^{ème} case (si on le remplit en inscrivant les nombres entiers du tableau dans un ordre croissant à partir de la 1^{ère} case contenant l'entier 1).

On peut alors ensuite remarquer que pour remplir deux lignes, il y a 8 cases. Or $672 = 84 \times 8$! la 672^{ème} case se trouve donc sur la colonne A et sur la 84^{ème} ligne.

A	B	C	D	E
	1	4	7	
22	19	16	13	10
	25	28	31	
46	43	40	37	34
	49	52	55	
70	67	64	61	58

Exercice 4 : d'une distance à l'autre



La correction doit absolument valoriser l'engagement dans une démarche et la réalisation de celle-ci. Ainsi, toute conjecture illustrée par un dessin sera prise en compte dans votre évaluation. Parmi les différentes démarches possibles, l'une d'elles consiste à démontrer que les droites (AE) et (CD) sont parallèles (ACDE est un trapèze) :

Les triangles BCD et CAE sont isocèles respectivement en D et en C donc

$$\cos(\widehat{BCD}) = \frac{2}{3} = \frac{4}{6} = \cos(\widehat{CAE}).$$

Les angles \widehat{BCD} et \widehat{CAE} sont donc égaux et les droites (AE) et (CD) sont parallèles.

Si on appelle C' le milieu du segment [AE] et E' le projeté orthogonal du point E sur la droite (CD), alors CC'EE' est un rectangle avec $CE' = C'E = 4$ et $CC' = EE' = 2\sqrt{5}$.

On obtient la longueur DE dans le triangle rectangle DEE' : $DE = \sqrt{21}$ (on a $DE' = 4 - 3 = 1$)

ELEMENTS DE CORRECTION



MINISTÈRE DE
L'ÉDUCATION NATIONALE

MINISTÈRE DE
L'ENSEIGNEMENT SUPÉRIEUR
ET DE LA RECHERCHE



Olympiades académiques de mathématiques

Classes de quatrième

Concours René Merckhoffer

Jeudi 3 avril 2014

Durée de l'épreuve : 2 heures.

Les calculatrices sont autorisées.

Les quatre exercices sont à traiter. Les candidats sont invités à faire figurer sur les copies les résultats, même partiels, auxquels ils sont parvenus, et les idées qui leur sont venues.

Exercice 1 : des pyramides de Pascal

1. a. On complète l'exemple de pyramide de Pascal donné en exemple par le sujet :

7		2			
7		9	2		
7		16	11	2	
7	23	27	13	2	
7	30	50	40	15	2

- b. On obtient $L_1 = 9$ sur la 1^{ère} ligne, $L_2 = 18$ sur la 2^{ème} ligne, $L_3 = 36$ sur la 3^{ème} ligne, $L_4 = 72$ sur la 4^{ème} ligne et $L_5 = 144$ sur la 5^{ème} ligne.
On remarque que la somme double lorsque l'on passe d'une ligne à celle située en dessous.

2. Si l'on considère la pyramide de Pascal associée aux nombres entiers $m = 1$ et $n = 1$, alors sur la 1^{ère} ligne la somme des nombres est égale à 2.

D'après la règle vue ci-dessus, la somme des nombres sera égale à :

$4 = 2^2$ sur la 2^{ème} ligne, $8 = 2^3$ sur la 3^{ème} ligne, ..., $256 = 2^8$ sur la 8^{ème} ligne, $512 = 2^9$ sur la 9^{ème} ligne et enfin $1024 = 2^{10}$ sur la dixième ligne.

3. Si on remplit la pyramide de Pascal avec deux nombres entiers positifs m et n , on obtient :

m		n			
m		m+n	n		
m		2m+n	m+2n	n	
m	3m+n	3m+3n	m+3n	n	
m					n

La somme des nombres de la troisième ligne est égale à $S = 4m + 4n$ et la somme des nombres sur la quatrième ligne est égale à $S' = 8m + 8n = 2(4m + 4n) = 2S$

4. Si on note n le nombre entier inconnu sur la première ligne, on obtient :

3		n			
3		3 + n	n		
3		6 + n	3 + 2n	n	
3		9 + n	9 + 3n	3 + 3n	n
3	12 + n	46	12 + 6n	3 + 4n	n

Par conséquent, selon les règles de la pyramide : $(9 + n) + (9 + 3n) = 46$ soit $n = 7$.

On obtient aisément la pyramide en remplaçant n par 7

Exercice 2 : la frise

En assemblant les quatre premières formes (une blanche, une grise claire, une grise foncée puis une hachurée), Christophe a obtenu un motif dont le périmètre est égal à 42cm. Afin de réaliser la frise dans son ensemble, il peut, dans un premier temps, construire dix motifs identiques au précédent. Il doit ensuite les assembler les uns à la suite des autres. Du fait de l'emboîtement des deux pièces (respectivement hachurée et blanche), pour chaque nouveau motif ajouté, le périmètre de l'ensemble augmente de $32 = 42 - 10$.

Au final, lorsqu'il aura assemblé les dix motifs (c'est-à-dire les 40 formes découpées), le périmètre du puzzle sera égale à $P = 42 + 9 \times 32 = 330$ (ou $P = 10 \times 42 - 9 \times 10$)

Exercice 3 : le tableau

De nombreuses propriétés peuvent être observées et conjecturées dans le tableau : l'une d'elles consiste à remarquer que l'on peut parcourir les cases successivement en rajoutant +3 à chaque étape afin d'obtenir la suite des nombres entiers du tableau. En remarquant alors que :

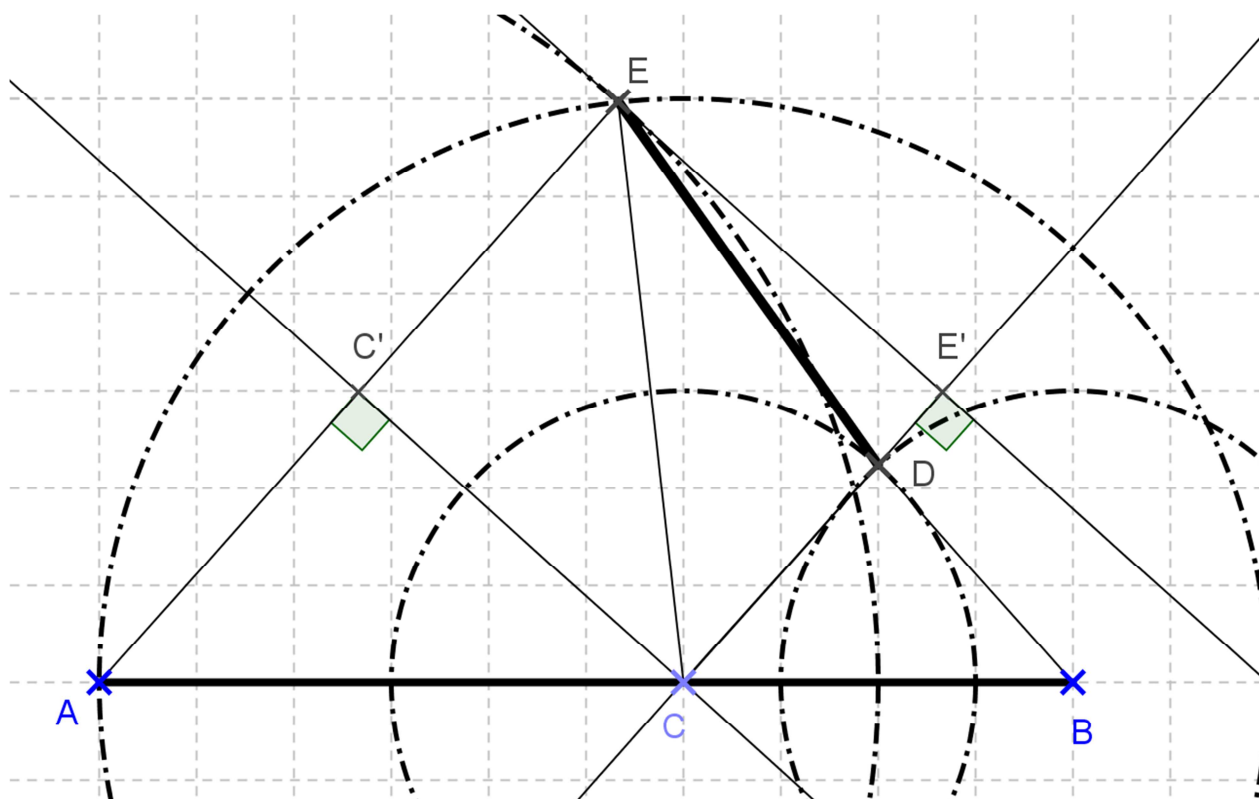
$$2014 = 1 + 671 \times 3$$

On peut affirmer que 2014 se trouvera dans le tableau à la 672^{ème} case (si on le remplit en inscrivant les nombres entiers du tableau dans un ordre croissant à partir de la 1^{ère} case contenant l'entier 1).

On peut alors ensuite remarquer que pour remplir deux lignes, il y a 8 cases. Or $672 = 84 \times 8$! la 672^{ème} case se trouve donc sur la colonne A et sur la 84^{ème} ligne.

A	B	C	D	E
	1	4	7	
22	19	16	13	10
	25	28	31	
46	43	40	37	34
	49	52	55	
70	67	64	61	58

Exercice 4 : d'une distance à l'autre



La correction doit absolument valoriser l'engagement dans une démarche et la réalisation de celle-ci. Ainsi, toute conjecture illustrée par un dessin sera prise en compte dans votre évaluation. Parmi les différentes démarches possibles, l'une d'elles consiste à démontrer que les droites (AE) et (CD) sont parallèles (ACDE est un trapèze) :

Les triangles BCD et CAE sont isocèles respectivement en D et en C donc

$$\cos(\widehat{BCD}) = \frac{2}{3} = \frac{4}{6} = \cos(\widehat{CAE}).$$

Les angles \widehat{BCD} et \widehat{CAE} sont donc égaux et les droites (AE) et (CD) sont parallèles.

Si on appelle C' le milieu du segment [AE] et E' le projeté orthogonal du point E sur la droite (CD), alors CC'EE' est un rectangle avec $CE' = C'E = 4$ et $CC' = EE' = 2\sqrt{5}$.

On obtient la longueur DE dans le triangle rectangle DEE' : $DE = \sqrt{21}$ (on a $DE' = 4 - 3 = 1$)

ELEMENTS DE CORRECTION



MINISTÈRE DE
L'ÉDUCATION NATIONALE

MINISTÈRE DE
L'ENSEIGNEMENT SUPÉRIEUR
ET DE LA RECHERCHE



Olympiades académiques de mathématiques

Classes de quatrième

Concours René Merckhoffer

Jeudi 3 avril 2014

Durée de l'épreuve : 2 heures.

Les calculatrices sont autorisées.

Les quatre exercices sont à traiter. Les candidats sont invités à faire figurer sur les copies les résultats, même partiels, auxquels ils sont parvenus, et les idées qui leur sont venues.

Exercice 1 : des pyramides de Pascal

1. a. On complète l'exemple de pyramide de Pascal donné en exemple par le sujet :

7		2									
7		9	2								
7		16		11	2						
7		23		27		13		2			
7		30		50		40		15		2	

- b. On obtient $L_1 = 9$ sur la 1^{ère} ligne, $L_2 = 18$ sur la 2^{ème} ligne, $L_3 = 36$ sur la 3^{ème} ligne, $L_4 = 72$ sur la 4^{ème} ligne et $L_5 = 144$ sur la 5^{ème} ligne.
On remarque que la somme double lorsque l'on passe d'une ligne à celle située en dessous.

2. Si l'on considère la pyramide de Pascal associée aux nombres entiers $m = 1$ et $n = 1$, alors sur la 1^{ère} ligne la somme des nombres est égale à 2.

D'après la règle vue ci-dessus, la somme des nombres sera égale à :

$4 = 2^2$ sur la 2^{ème} ligne, $8 = 2^3$ sur la 3^{ème} ligne, ..., $256 = 2^8$ sur la 8^{ème} ligne, $512 = 2^9$ sur la 9^{ème} ligne et enfin $1024 = 2^{10}$ sur la dixième ligne.

3. Si on remplit la pyramide de Pascal avec deux nombres entiers positifs m et n , on obtient :

m		n							
m		m+n		n					
m		2m+n		m+2n		n			
m		3m+n		3m+3n		m+3n		n	
m								n	

La somme des nombres de la troisième ligne est égale à $S = 4m + 4n$ et la somme des nombres sur la quatrième ligne est égale à $S' = 8m + 8n = 2(4m + 4n) = 2S$

4. Si on note n le nombre entier inconnu sur la première ligne, on obtient :

3		n									
3		3 + n		n							
3		6 + n		3 + 2n		n					
3		9 + n		9 + 3n		3 + 3n		n			
3		12 + n		46		12 + 6n		3 + 4n		n	

Par conséquent, selon les règles de la pyramide : $(9 + n) + (9 + 3n) = 46$ soit $n = 7$.

On obtient aisément la pyramide en remplaçant n par 7

Exercice 2 : la frise

En assemblant les quatre premières formes (une blanche, une grise claire, une grise foncée puis une hachurée), Christophe a obtenu un motif dont le périmètre est égal à 42cm. Afin de réaliser la frise dans son ensemble, il peut, dans un premier temps, construire dix motifs identiques au précédent. Il doit ensuite les assembler les uns à la suite des autres. Du fait de l'emboîtement des deux pièces (respectivement hachurée et blanche), pour chaque nouveau motif ajouté, le périmètre de l'ensemble augmente de $32 = 42 - 10$.

Au final, lorsqu'il aura assemblé les dix motifs (c'est-à-dire les 40 formes découpées), le périmètre du puzzle sera égale à $P = 42 + 9 \times 32 = 330$ (ou $P = 10 \times 42 - 9 \times 10$)

Exercice 3 : le tableau

De nombreuses propriétés peuvent être observées et conjecturées dans le tableau : l'une d'elles consiste à remarquer que l'on peut parcourir les cases successivement en rajoutant +3 à chaque étape afin d'obtenir la suite des nombres entiers du tableau. En remarquant alors que :

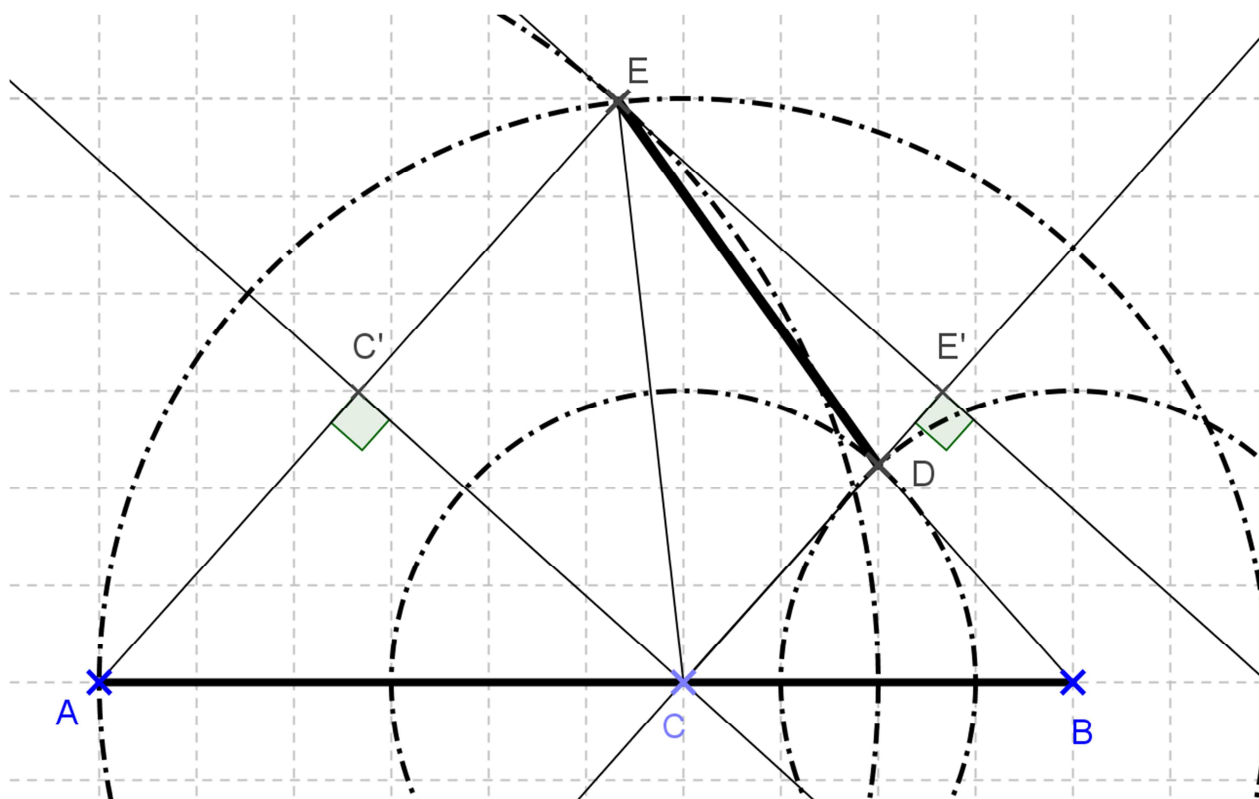
$$2014 = 1 + 671 \times 3$$

On peut affirmer que 2014 se trouvera dans le tableau à la 672^{ème} case (si on le remplit en inscrivant les nombres entiers du tableau dans un ordre croissant à partir de la 1^{ère} case contenant l'entier 1).

On peut alors ensuite remarquer que pour remplir deux lignes, il y a 8 cases. Or $672 = 84 \times 8$! la 672^{ème} case se trouve donc sur la colonne A et sur la 84^{ème} ligne.

A	B	C	D	E
	1	4	7	
22	19	16	13	10
	25	28	31	
46	43	40	37	34
	49	52	55	
70	67	64	61	58

Exercice 4 : d'une distance à l'autre



La correction doit absolument valoriser l'engagement dans une démarche et la réalisation de celle-ci. Ainsi, toute conjecture illustrée par un dessin sera prise en compte dans votre évaluation. Parmi les différentes démarches possibles, l'une d'elles consiste à démontrer que les droites (AE) et (CD) sont parallèles (ACDE est un trapèze) :

Les triangles BCD et CAE sont isocèles respectivement en D et en C donc

$$\cos(\widehat{BCD}) = \frac{2}{3} = \frac{4}{6} = \cos(\widehat{CAE}).$$

Les angles \widehat{BCD} et \widehat{CAE} sont donc égaux et les droites (AE) et (CD) sont parallèles.

Si on appelle C' le milieu du segment [AE] et E' le projeté orthogonal du point E sur la droite (CD), alors CC'EE' est un rectangle avec $CE' = C'E = 4$ et $CC' = EE' = 2\sqrt{5}$.

On obtient la longueur DE dans le triangle rectangle DEE' : $DE = \sqrt{21}$ (on a $DE' = 4 - 3 = 1$)

ELEMENTS DE CORRECTION



MINISTÈRE DE
L'ÉDUCATION NATIONALE

MINISTÈRE DE
L'ENSEIGNEMENT SUPÉRIEUR
ET DE LA RECHERCHE



Olympiades académiques de mathématiques

Classes de quatrième

Concours René Merckhoffer

Jeudi 3 avril 2014

Durée de l'épreuve : 2 heures.

Les calculatrices sont autorisées.

Les quatre exercices sont à traiter. Les candidats sont invités à faire figurer sur les copies les résultats, même partiels, auxquels ils sont parvenus, et les idées qui leur sont venues.

Exercice 1 : des pyramides de Pascal

1. a. On complète l'exemple de pyramide de Pascal donné en exemple par le sujet :

7		2									
7		9		2							
7		16		11		2					
7		23		27		13		2			
7		30		50		40		15		2	

- b. On obtient $L_1 = 9$ sur la 1^{ère} ligne, $L_2 = 18$ sur la 2^{ème} ligne, $L_3 = 36$ sur la 3^{ème} ligne, $L_4 = 72$ sur la 4^{ème} ligne et $L_5 = 144$ sur la 5^{ème} ligne.
On remarque que la somme double lorsque l'on passe d'une ligne à celle située en dessous.

2. Si l'on considère la pyramide de Pascal associée aux nombres entiers $m = 1$ et $n = 1$, alors sur la 1^{ère} ligne la somme des nombres est égale à 2.

D'après la règle vue ci-dessus, la somme des nombres sera égale à :

$4 = 2^2$ sur la 2^{ème} ligne, $8 = 2^3$ sur la 3^{ème} ligne, ..., $256 = 2^8$ sur la 8^{ème} ligne, $512 = 2^9$ sur la 9^{ème} ligne et enfin $1024 = 2^{10}$ sur la dixième ligne.

3. Si on remplit la pyramide de Pascal avec deux nombres entiers positifs m et n , on obtient :

m		n							
m		$m+n$		n					
m		$2m+n$		$m+2n$		n			
m		$3m+n$		$3m+3n$		$m+3n$		n	
m								n	

La somme des nombres de la troisième ligne est égale à $S = 4m + 4n$ et la somme des nombres sur la quatrième ligne est égale à $S' = 8m + 8n = 2(4m + 4n) = 2S$

4. Si on note n le nombre entier inconnu sur la première ligne, on obtient :

3		n									
3		$3 + n$		n							
3		$6 + n$		$3 + 2n$		n					
3		$9 + n$		$9 + 3n$		$3 + 3n$		n			
3		$12 + n$		46		$12 + 6n$		$3 + 4n$		n	

Par conséquent, selon les règles de la pyramide : $(9 + n) + (9 + 3n) = 46$ soit $n = 7$.

On obtient aisément la pyramide en remplaçant n par 7

Exercice 2 : la frise

En assemblant les quatre premières formes (une blanche, une grise claire, une grise foncée puis une hachurée), Christophe a obtenu un motif dont le périmètre est égal à 42cm. Afin de réaliser la frise dans son ensemble, il peut, dans un premier temps, construire dix motifs identiques au précédent. Il doit ensuite les assembler les uns à la suite des autres. Du fait de l'emboîtement des deux pièces (respectivement hachurée et blanche), pour chaque nouveau motif ajouté, le périmètre de l'ensemble augmente de $32 = 42 - 10$.

Au final, lorsqu'il aura assemblé les dix motifs (c'est-à-dire les 40 formes découpées), le périmètre du puzzle sera égale à $P = 42 + 9 \times 32 = 330$ (ou $P = 10 \times 42 - 9 \times 10$)

Exercice 3 : le tableau

De nombreuses propriétés peuvent être observées et conjecturées dans le tableau : l'une d'elles consiste à remarquer que l'on peut parcourir les cases successivement en rajoutant +3 à chaque étape afin d'obtenir la suite des nombres entiers du tableau. En remarquant alors que :

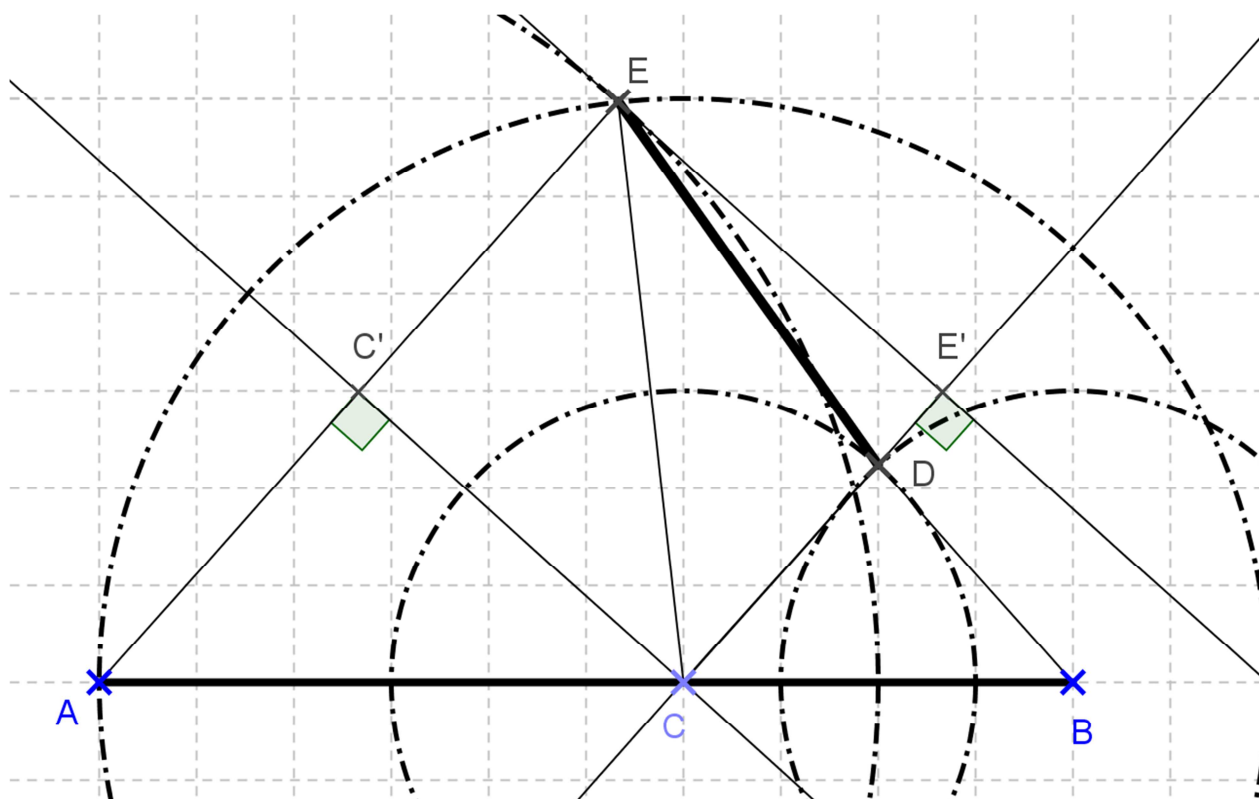
$$2014 = 1 + 671 \times 3$$

On peut affirmer que 2014 se trouvera dans le tableau à la 672^{ème} case (si on le remplit en inscrivant les nombres entiers du tableau dans un ordre croissant à partir de la 1^{ère} case contenant l'entier 1).

On peut alors ensuite remarquer que pour remplir deux lignes, il y a 8 cases. Or $672 = 84 \times 8$! la 672^{ème} case se trouve donc sur la colonne A et sur la 84^{ème} ligne.

A	B	C	D	E
	1	4	7	
22	19	16	13	10
	25	28	31	
46	43	40	37	34
	49	52	55	
70	67	64	61	58

Exercice 4 : d'une distance à l'autre



La correction doit absolument valoriser l'engagement dans une démarche et la réalisation de celle-ci. Ainsi, toute conjecture illustrée par un dessin sera prise en compte dans votre évaluation. Parmi les différentes démarches possibles, l'une d'elles consiste à démontrer que les droites (AE) et (CD) sont parallèles (ACDE est un trapèze) :

Les triangles BCD et CAE sont isocèles respectivement en D et en C donc

$$\cos(\widehat{BCD}) = \frac{2}{3} = \frac{4}{6} = \cos(\widehat{CAE}).$$

Les angles \widehat{BCD} et \widehat{CAE} sont donc égaux et les droites (AE) et (CD) sont parallèles.

Si on appelle C' le milieu du segment [AE] et E' le projeté orthogonal du point E sur la droite (CD), alors CC'EE' est un rectangle avec $CE' = C'E = 4$ et $CC' = EE' = 2\sqrt{5}$.

On obtient la longueur DE dans le triangle rectangle DEE' : $DE = \sqrt{21}$ (on a $DE' = 4 - 3 = 1$)

ELEMENTS DE CORRECTION



MINISTÈRE DE
L'ÉDUCATION NATIONALE

MINISTÈRE DE
L'ENSEIGNEMENT SUPÉRIEUR
ET DE LA RECHERCHE



Olympiades académiques de mathématiques

Classes de quatrième

Concours René Merckhoffer

Jeudi 3 avril 2014

Durée de l'épreuve : 2 heures.

Les calculatrices sont autorisées.

Les quatre exercices sont à traiter. Les candidats sont invités à faire figurer sur les copies les résultats, même partiels, auxquels ils sont parvenus, et les idées qui leur sont venues.

Exercice 1 : des pyramides de Pascal

1. a. On complète l'exemple de pyramide de Pascal donné en exemple par le sujet :

7		2									
7		9		2							
7		16		11		2					
7		23		27		13		2			
7		30		50		40		15		2	

- b. On obtient $L_1 = 9$ sur la 1^{ère} ligne, $L_2 = 18$ sur la 2^{ème} ligne, $L_3 = 36$ sur la 3^{ème} ligne, $L_4 = 72$ sur la 4^{ème} ligne et $L_5 = 144$ sur la 5^{ème} ligne.
On remarque que la somme double lorsque l'on passe d'une ligne à celle située en dessous.

2. Si l'on considère la pyramide de Pascal associée aux nombres entiers $m = 1$ et $n = 1$, alors sur la 1^{ère} ligne la somme des nombres est égale à 2.

D'après la règle vue ci-dessus, la somme des nombres sera égale à :

$4 = 2^2$ sur la 2^{ème} ligne, $8 = 2^3$ sur la 3^{ème} ligne, ..., $256 = 2^8$ sur la 8^{ème} ligne, $512 = 2^9$ sur la 9^{ème} ligne et enfin $1024 = 2^{10}$ sur la dixième ligne.

3. Si on remplit la pyramide de Pascal avec deux nombres entiers positifs m et n , on obtient :

m		n							
m		m+n		n					
m		2m+n		m+2n		n			
m		3m+n		3m+3n		m+3n		n	
m								n	

La somme des nombres de la troisième ligne est égale à $S = 4m + 4n$ et la somme des nombres sur la quatrième ligne est égale à $S' = 8m + 8n = 2(4m + 4n) = 2S$

4. Si on note n le nombre entier inconnu sur la première ligne, on obtient :

3		n									
3		3 + n		n							
3		6 + n		3 + 2n		n					
3		9 + n		9 + 3n		3 + 3n		n			
3		12 + n		46		12 + 6n		3 + 4n		n	

Par conséquent, selon les règles de la pyramide : $(9 + n) + (9 + 3n) = 46$ soit $n = 7$.

On obtient aisément la pyramide en remplaçant n par 7

Exercice 2 : la frise

En assemblant les quatre premières formes (une blanche, une grise claire, une grise foncée puis une hachurée), Christophe a obtenu un motif dont le périmètre est égal à 42cm. Afin de réaliser la frise dans son ensemble, il peut, dans un premier temps, construire dix motifs identiques au précédent. Il doit ensuite les assembler les uns à la suite des autres. Du fait de l'emboîtement des deux pièces (respectivement hachurée et blanche), pour chaque nouveau motif ajouté, le périmètre de l'ensemble augmente de $32 = 42 - 10$.

Au final, lorsqu'il aura assemblé les dix motifs (c'est-à-dire les 40 formes découpées), le périmètre du puzzle sera égale à $P = 42 + 9 \times 32 = 330$ (ou $P = 10 \times 42 - 9 \times 10$)

Exercice 3 : le tableau

De nombreuses propriétés peuvent être observées et conjecturées dans le tableau : l'une d'elles consiste à remarquer que l'on peut parcourir les cases successivement en rajoutant +3 à chaque étape afin d'obtenir la suite des nombres entiers du tableau. En remarquant alors que :

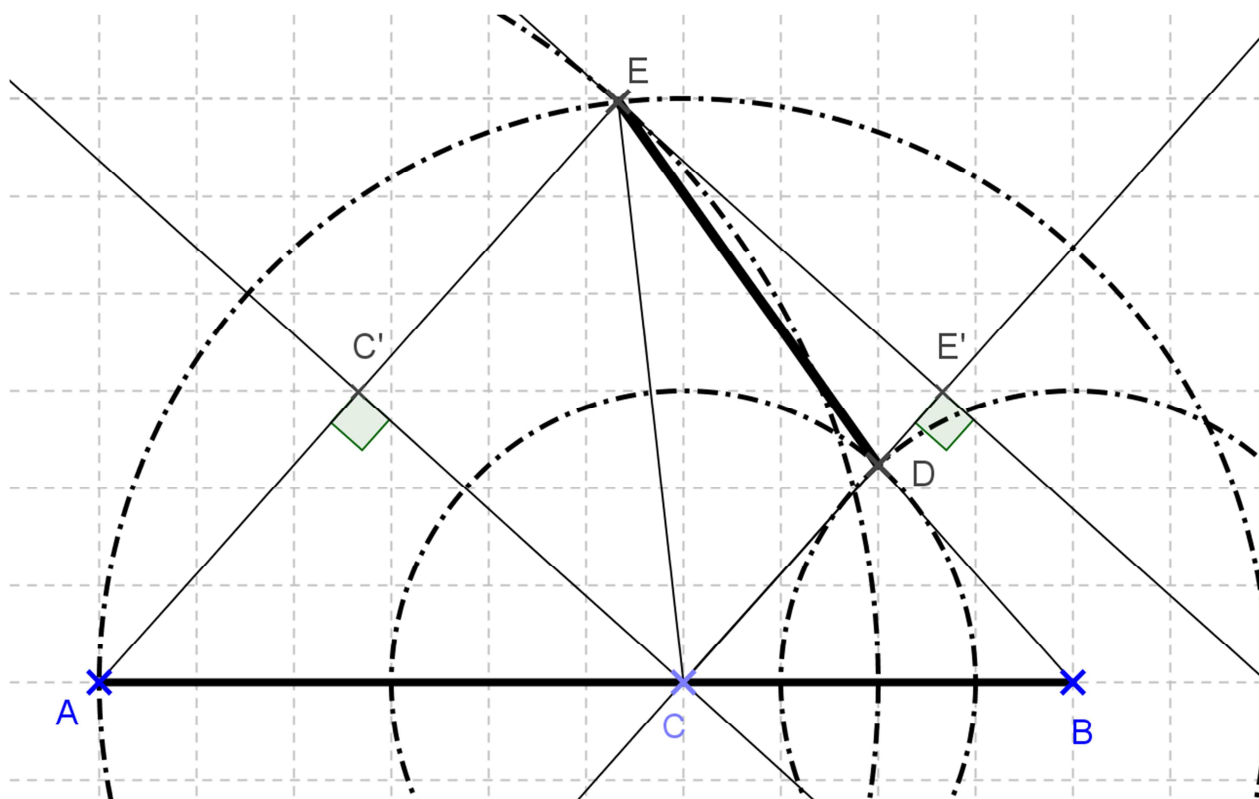
$$2014 = 1 + 671 \times 3$$

On peut affirmer que 2014 se trouvera dans le tableau à la 672^{ème} case (si on le remplit en inscrivant les nombres entiers du tableau dans un ordre croissant à partir de la 1^{ère} case contenant l'entier 1).

On peut alors ensuite remarquer que pour remplir deux lignes, il y a 8 cases. Or $672 = 84 \times 8$! la 672^{ème} case se trouve donc sur la colonne A et sur la 84^{ème} ligne.

A	B	C	D	E
	1	4	7	
22	19	16	13	10
	25	28	31	
46	43	40	37	34
	49	52	55	
70	67	64	61	58

Exercice 4 : d'une distance à l'autre



La correction doit absolument valoriser l'engagement dans une démarche et la réalisation de celle-ci. Ainsi, toute conjecture illustrée par un dessin sera prise en compte dans votre évaluation. Parmi les différentes démarches possibles, l'une d'elles consiste à démontrer que les droites (AE) et (CD) sont parallèles (ACDE est un trapèze) :

Les triangles BCD et CAE sont isocèles respectivement en D et en C donc

$$\cos(\widehat{BCD}) = \frac{2}{3} = \frac{4}{6} = \cos(\widehat{CAE}).$$

Les angles \widehat{BCD} et \widehat{CAE} sont donc égaux et les droites (AE) et (CD) sont parallèles.

Si on appelle C' le milieu du segment [AE] et E' le projeté orthogonal du point E sur la droite (CD), alors CC'EE' est un rectangle avec $CE' = C'E = 4$ et $CC' = EE' = 2\sqrt{5}$.

On obtient la longueur DE dans le triangle rectangle DEE' : $DE = \sqrt{21}$ (on a $DE' = 4 - 3 = 1$)

ELEMENTS DE CORRECTION



MINISTÈRE DE
L'ÉDUCATION NATIONALE

MINISTÈRE DE
L'ENSEIGNEMENT SUPÉRIEUR
ET DE LA RECHERCHE



Olympiades académiques de mathématiques

Classes de quatrième

Concours René Merckhoffer

Jeudi 3 avril 2014

Durée de l'épreuve : 2 heures.

Les calculatrices sont autorisées.

Les quatre exercices sont à traiter. Les candidats sont invités à faire figurer sur les copies les résultats, même partiels, auxquels ils sont parvenus, et les idées qui leur sont venues.

Exercice 1 : des pyramides de Pascal

1. a. On complète l'exemple de pyramide de Pascal donné en exemple par le sujet :

7		2									
7		9	2								
7		16		11	2						
7		23		27		13		2			
7		30		50		40		15		2	

- b. On obtient $L_1 = 9$ sur la 1^{ère} ligne, $L_2 = 18$ sur la 2^{ème} ligne, $L_3 = 36$ sur la 3^{ème} ligne, $L_4 = 72$ sur la 4^{ème} ligne et $L_5 = 144$ sur la 5^{ème} ligne.
On remarque que la somme double lorsque l'on passe d'une ligne à celle située en dessous.

2. Si l'on considère la pyramide de Pascal associée aux nombres entiers $m = 1$ et $n = 1$, alors sur la 1^{ère} ligne la somme des nombres est égale à 2.

D'après la règle vue ci-dessus, la somme des nombres sera égale à :

$4 = 2^2$ sur la 2^{ème} ligne, $8 = 2^3$ sur la 3^{ème} ligne, ..., $256 = 2^8$ sur la 8^{ème} ligne, $512 = 2^9$ sur la 9^{ème} ligne et enfin $1024 = 2^{10}$ sur la dixième ligne.

3. Si on remplit la pyramide de Pascal avec deux nombres entiers positifs m et n , on obtient :

m		n							
m		m+n		n					
m		2m+n		m+2n		n			
m		3m+n		3m+3n		m+3n		n	
m								n	

La somme des nombres de la troisième ligne est égale à $S = 4m + 4n$ et la somme des nombres sur la quatrième ligne est égale à $S' = 8m + 8n = 2(4m + 4n) = 2S$

4. Si on note n le nombre entier inconnu sur la première ligne, on obtient :

3		n									
3		3 + n		n							
3		6 + n		3 + 2n		n					
3		9 + n		9 + 3n		3 + 3n		n			
3		12 + n		46		12 + 6n		3 + 4n		n	

Par conséquent, selon les règles de la pyramide : $(9 + n) + (9 + 3n) = 46$ soit $n = 7$.

On obtient aisément la pyramide en remplaçant n par 7

Exercice 2 : la frise

En assemblant les quatre premières formes (une blanche, une grise claire, une grise foncée puis une hachurée), Christophe a obtenu un motif dont le périmètre est égal à 42cm. Afin de réaliser la frise dans son ensemble, il peut, dans un premier temps, construire dix motifs identiques au précédent. Il doit ensuite les assembler les uns à la suite des autres. Du fait de l'emboîtement des deux pièces (respectivement hachurée et blanche), pour chaque nouveau motif ajouté, le périmètre de l'ensemble augmente de $32 = 42 - 10$.

Au final, lorsqu'il aura assemblé les dix motifs (c'est-à-dire les 40 formes découpées), le périmètre du puzzle sera égale à $P = 42 + 9 \times 32 = 330$ (ou $P = 10 \times 42 - 9 \times 10$)

Exercice 3 : le tableau

De nombreuses propriétés peuvent être observées et conjecturées dans le tableau : l'une d'elles consiste à remarquer que l'on peut parcourir les cases successivement en rajoutant +3 à chaque étape afin d'obtenir la suite des nombres entiers du tableau. En remarquant alors que :

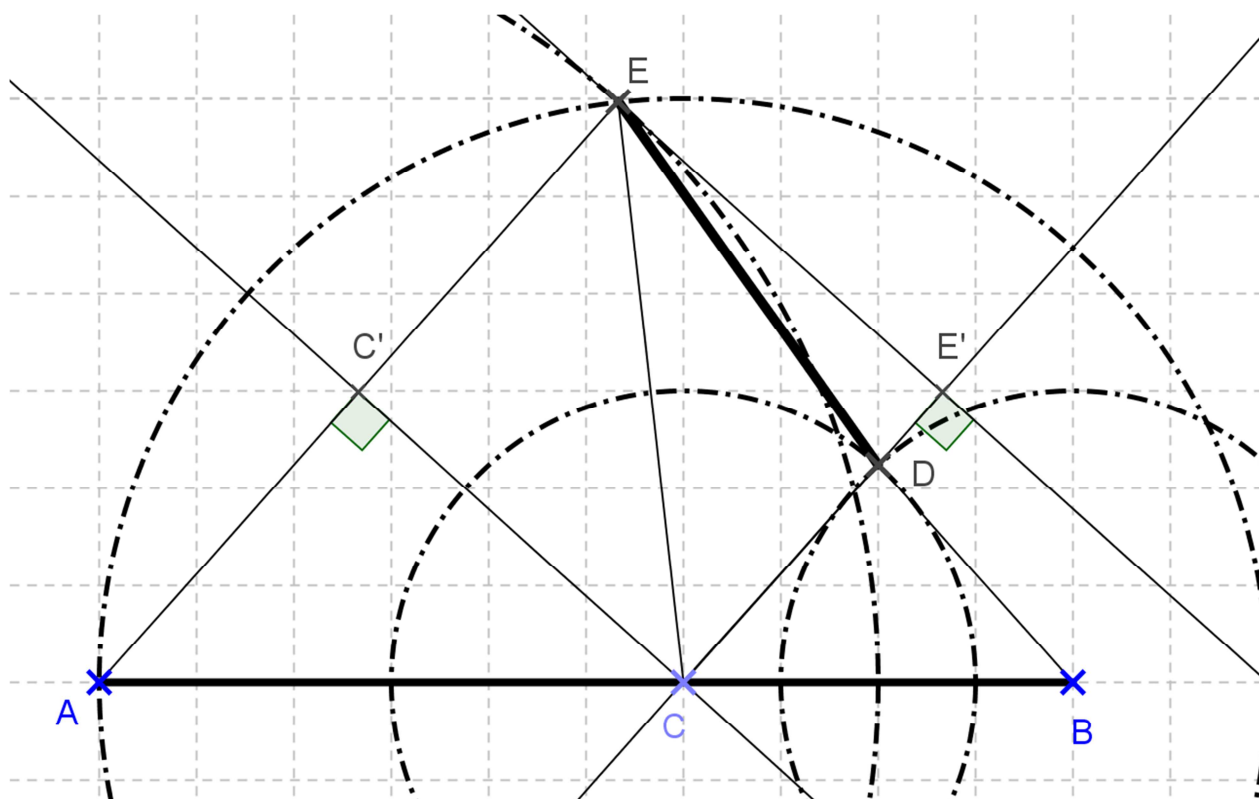
$$2014 = 1 + 671 \times 3$$

On peut affirmer que 2014 se trouvera dans le tableau à la 672^{ème} case (si on le remplit en inscrivant les nombres entiers du tableau dans un ordre croissant à partir de la 1^{ère} case contenant l'entier 1).

On peut alors ensuite remarquer que pour remplir deux lignes, il y a 8 cases. Or $672 = 84 \times 8$! la 672^{ème} case se trouve donc sur la colonne A et sur la 84^{ème} ligne.

A	B	C	D	E
	1	4	7	
22	19	16	13	10
	25	28	31	
46	43	40	37	34
	49	52	55	
70	67	64	61	58

Exercice 4 : d'une distance à l'autre



La correction doit absolument valoriser l'engagement dans une démarche et la réalisation de celle-ci. Ainsi, toute conjecture illustrée par un dessin sera prise en compte dans votre évaluation. Parmi les différentes démarches possibles, l'une d'elles consiste à démontrer que les droites (AE) et (CD) sont parallèles (ACDE est un trapèze) :

Les triangles BCD et CAE sont isocèles respectivement en D et en C donc

$$\cos(\widehat{BCD}) = \frac{2}{3} = \frac{4}{6} = \cos(\widehat{CAE}).$$

Les angles \widehat{BCD} et \widehat{CAE} sont donc égaux et les droites (AE) et (CD) sont parallèles.

Si on appelle C' le milieu du segment [AE] et E' le projeté orthogonal du point E sur la droite (CD), alors CC'EE' est un rectangle avec $CE' = C'E = 4$ et $CC' = EE' = 2\sqrt{5}$.

On obtient la longueur DE dans le triangle rectangle DEE' : $DE = \sqrt{21}$ (on a $DE' = 4 - 3 = 1$)

ELEMENTS DE CORRECTION



MINISTÈRE DE
L'ÉDUCATION NATIONALE

MINISTÈRE DE
L'ENSEIGNEMENT SUPÉRIEUR
ET DE LA RECHERCHE



Olympiades académiques de mathématiques

Classes de quatrième

Concours René Merckhoffer

Jeudi 3 avril 2014

Durée de l'épreuve : 2 heures.

Les calculatrices sont autorisées.

Les quatre exercices sont à traiter. Les candidats sont invités à faire figurer sur les copies les résultats, même partiels, auxquels ils sont parvenus, et les idées qui leur sont venues.

Exercice 1 : des pyramides de Pascal

1. a. On complète l'exemple de pyramide de Pascal donné en exemple par le sujet :

7		2															
7		9		2													
7			16		11		2										
7				23			27		13		2						
7					30				50			40		15		2	

- b. On obtient $L_1 = 9$ sur la 1^{ère} ligne, $L_2 = 18$ sur la 2^{ème} ligne, $L_3 = 36$ sur la 3^{ème} ligne, $L_4 = 72$ sur la 4^{ème} ligne et $L_5 = 144$ sur la 5^{ème} ligne.
On remarque que la somme double lorsque l'on passe d'une ligne à celle située en dessous.

2. Si l'on considère la pyramide de Pascal associée aux nombres entiers $m = 1$ et $n = 1$, alors sur la 1^{ère} ligne la somme des nombres est égale à 2.

D'après la règle vue ci-dessus, la somme des nombres sera égale à :

$4 = 2^2$ sur la 2^{ème} ligne, $8 = 2^3$ sur la 3^{ème} ligne, ..., $256 = 2^8$ sur la 8^{ème} ligne, $512 = 2^9$ sur la 9^{ème} ligne et enfin $1024 = 2^{10}$ sur la dixième ligne.

3. Si on remplit la pyramide de Pascal avec deux nombres entiers positifs m et n , on obtient :

m		n											
m		$m+n$		n									
m			$2m+n$		$m+2n$		n						
m				$3m+n$			$3m+3n$		$m+3n$		n		
m												n	

La somme des nombres de la troisième ligne est égale à $S = 4m + 4n$ et la somme des nombres sur la quatrième ligne est égale à $S' = 8m + 8n = 2(4m + 4n) = 2S$

4. Si on note n le nombre entier inconnu sur la première ligne, on obtient :

3		n															
3		$3 + n$		n													
3			$6 + n$		$3 + 2n$		n										
3				$9 + n$			$9 + 3n$		$3 + 3n$		n						
3					$12 + n$				46			$12 + 6n$		$3 + 4n$		n	

Par conséquent, selon les règles de la pyramide : $(9 + n) + (9 + 3n) = 46$ soit $n = 7$.

On obtient aisément la pyramide en remplaçant n par 7

Exercice 2 : la frise

En assemblant les quatre premières formes (une blanche, une grise claire, une grise foncée puis une hachurée), Christophe a obtenu un motif dont le périmètre est égal à 42cm. Afin de réaliser la frise dans son ensemble, il peut, dans un premier temps, construire dix motifs identiques au précédent. Il doit ensuite les assembler les uns à la suite des autres. Du fait de l'emboîtement des deux pièces (respectivement hachurée et blanche), pour chaque nouveau motif ajouté, le périmètre de l'ensemble augmente de $32 = 42 - 10$.

Au final, lorsqu'il aura assemblé les dix motifs (c'est-à-dire les 40 formes découpées), le périmètre du puzzle sera égale à $P = 42 + 9 \times 32 = 330$ (ou $P = 10 \times 42 - 9 \times 10$)

Exercice 3 : le tableau

De nombreuses propriétés peuvent être observées et conjecturées dans le tableau : l'une d'elles consiste à remarquer que l'on peut parcourir les cases successivement en rajoutant +3 à chaque étape afin d'obtenir la suite des nombres entiers du tableau. En remarquant alors que :

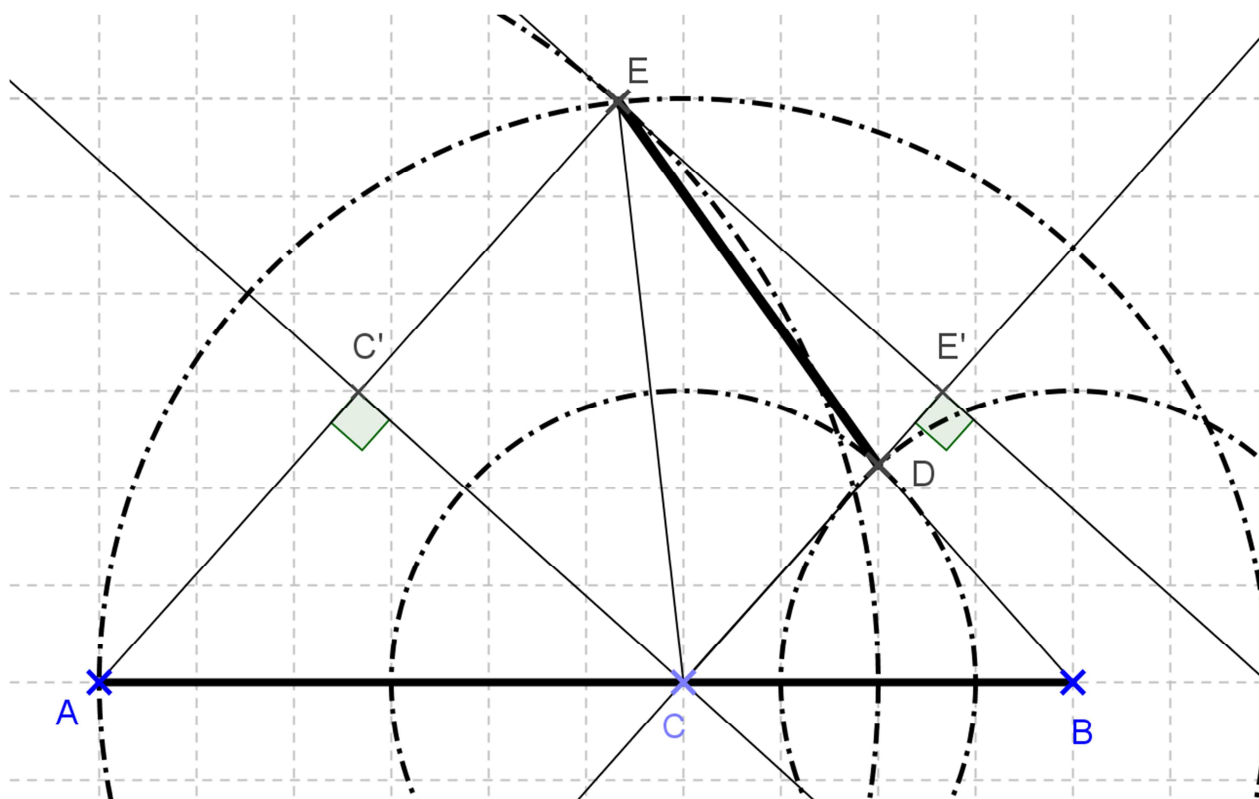
$$2014 = 1 + 671 \times 3$$

On peut affirmer que 2014 se trouvera dans le tableau à la 672^{ème} case (si on le remplit en inscrivant les nombres entiers du tableau dans un ordre croissant à partir de la 1^{ère} case contenant l'entier 1).

On peut alors ensuite remarquer que pour remplir deux lignes, il y a 8 cases. Or $672 = 84 \times 8$! la 672^{ème} case se trouve donc sur la colonne A et sur la 84^{ème} ligne.

A	B	C	D	E
	1	4	7	
22	19	16	13	10
	25	28	31	
46	43	40	37	34
	49	52	55	
70	67	64	61	58

Exercice 4 : d'une distance à l'autre



La correction doit absolument valoriser l'engagement dans une démarche et la réalisation de celle-ci. Ainsi, toute conjecture illustrée par un dessin sera prise en compte dans votre évaluation. Parmi les différentes démarches possibles, l'une d'elles consiste à démontrer que les droites (AE) et (CD) sont parallèles (ACDE est un trapèze) :

Les triangles BCD et CAE sont isocèles respectivement en D et en C donc

$$\cos(\widehat{BCD}) = \frac{2}{3} = \frac{4}{6} = \cos(\widehat{CAE}).$$

Les angles \widehat{BCD} et \widehat{CAE} sont donc égaux et les droites (AE) et (CD) sont parallèles.

Si on appelle C' le milieu du segment [AE] et E' le projeté orthogonal du point E sur la droite (CD), alors CC'EE' est un rectangle avec $CE' = C'E = 4$ et $CC' = EE' = 2\sqrt{5}$.

On obtient la longueur DE dans le triangle rectangle DEE' : $DE = \sqrt{21}$ (on a $DE' = 4 - 3 = 1$)

ELEMENTS DE CORRECTION



MINISTÈRE DE
L'ÉDUCATION NATIONALE

MINISTÈRE DE
L'ENSEIGNEMENT SUPÉRIEUR
ET DE LA RECHERCHE



Olympiades académiques de mathématiques

Classes de quatrième

Concours René Merckhoffer

Jeudi 3 avril 2014

Durée de l'épreuve : 2 heures.

Les calculatrices sont autorisées.

Les quatre exercices sont à traiter. Les candidats sont invités à faire figurer sur les copies les résultats, même partiels, auxquels ils sont parvenus, et les idées qui leur sont venues.

Exercice 1 : des pyramides de Pascal

1. a. On complète l'exemple de pyramide de Pascal donné en exemple par le sujet :

7		2			
7		9	2		
7		16	11	2	
7	23	27	13	2	
7	30	50	40	15	2

- b. On obtient $L_1 = 9$ sur la 1^{ère} ligne, $L_2 = 18$ sur la 2^{ème} ligne, $L_3 = 36$ sur la 3^{ème} ligne, $L_4 = 72$ sur la 4^{ème} ligne et $L_5 = 144$ sur la 5^{ème} ligne.
On remarque que la somme double lorsque l'on passe d'une ligne à celle située en dessous.

2. Si l'on considère la pyramide de Pascal associée aux nombres entiers $m = 1$ et $n = 1$, alors sur la 1^{ère} ligne la somme des nombres est égale à 2.

D'après la règle vue ci-dessus, la somme des nombres sera égale à :

$4 = 2^2$ sur la 2^{ème} ligne, $8 = 2^3$ sur la 3^{ème} ligne, ..., $256 = 2^8$ sur la 8^{ème} ligne, $512 = 2^9$ sur la 9^{ème} ligne et enfin $1024 = 2^{10}$ sur la dixième ligne.

3. Si on remplit la pyramide de Pascal avec deux nombres entiers positifs m et n , on obtient :

m		n			
m		m+n	n		
m		2m+n	m+2n	n	
m	3m+n	3m+3n	m+3n	n	
m					n

La somme des nombres de la troisième ligne est égale à $S = 4m + 4n$ et la somme des nombres sur la quatrième ligne est égale à $S' = 8m + 8n = 2(4m + 4n) = 2S$

4. Si on note n le nombre entier inconnu sur la première ligne, on obtient :

3		n			
3		3 + n	n		
3		6 + n	3 + 2n	n	
3		9 + n	9 + 3n	3 + 3n	n
3	12 + n	46	12 + 6n	3 + 4n	n

Par conséquent, selon les règles de la pyramide : $(9 + n) + (9 + 3n) = 46$ soit $n = 7$.

On obtient aisément la pyramide en remplaçant n par 7

Exercice 2 : la frise

En assemblant les quatre premières formes (une blanche, une grise claire, une grise foncée puis une hachurée), Christophe a obtenu un motif dont le périmètre est égal à 42cm. Afin de réaliser la frise dans son ensemble, il peut, dans un premier temps, construire dix motifs identiques au précédent. Il doit ensuite les assembler les uns à la suite des autres. Du fait de l'emboîtement des deux pièces (respectivement hachurée et blanche), pour chaque nouveau motif ajouté, le périmètre de l'ensemble augmente de $32 = 42 - 10$.

Au final, lorsqu'il aura assemblé les dix motifs (c'est-à-dire les 40 formes découpées), le périmètre du puzzle sera égale à $P = 42 + 9 \times 32 = 330$ (ou $P = 10 \times 42 - 9 \times 10$)

Exercice 3 : le tableau

De nombreuses propriétés peuvent être observées et conjecturées dans le tableau : l'une d'elles consiste à remarquer que l'on peut parcourir les cases successivement en rajoutant +3 à chaque étape afin d'obtenir la suite des nombres entiers du tableau. En remarquant alors que :

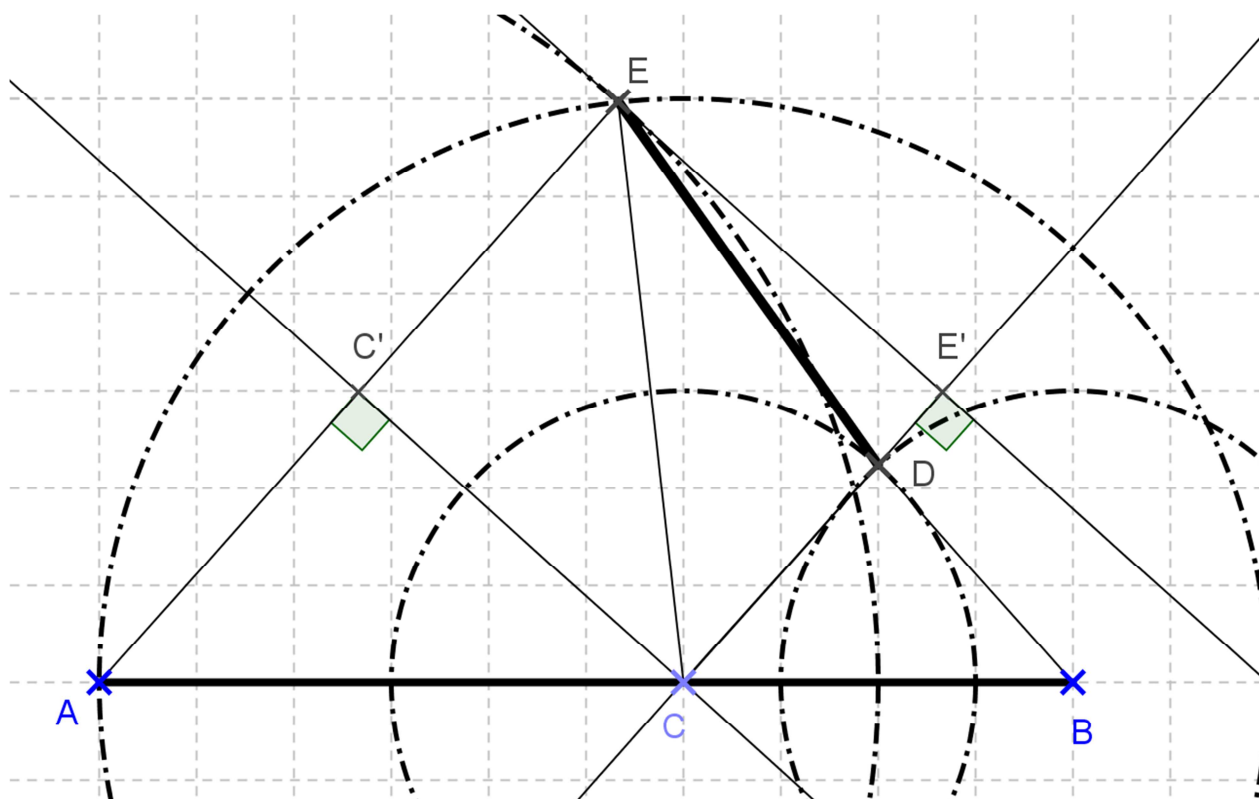
$$2014 = 1 + 671 \times 3$$

On peut affirmer que 2014 se trouvera dans le tableau à la 672^{ème} case (si on le remplit en inscrivant les nombres entiers du tableau dans un ordre croissant à partir de la 1^{ère} case contenant l'entier 1).

On peut alors ensuite remarquer que pour remplir deux lignes, il y a 8 cases. Or $672 = 84 \times 8$! la 672^{ème} case se trouve donc sur la colonne A et sur la 84^{ème} ligne.

A	B	C	D	E
	1	4	7	
22	19	16	13	10
	25	28	31	
46	43	40	37	34
	49	52	55	
70	67	64	61	58

Exercice 4 : d'une distance à l'autre



La correction doit absolument valoriser l'engagement dans une démarche et la réalisation de celle-ci. Ainsi, toute conjecture illustrée par un dessin sera prise en compte dans votre évaluation. Parmi les différentes démarches possibles, l'une d'elles consiste à démontrer que les droites (AE) et (CD) sont parallèles (ACDE est un trapèze) :

Les triangles BCD et CAE sont isocèles respectivement en D et en C donc

$$\cos(\widehat{BCD}) = \frac{2}{3} = \frac{4}{6} = \cos(\widehat{CAE}).$$

Les angles \widehat{BCD} et \widehat{CAE} sont donc égaux et les droites (AE) et (CD) sont parallèles.

Si on appelle C' le milieu du segment [AE] et E' le projeté orthogonal du point E sur la droite (CD), alors CC'EE' est un rectangle avec $CE' = C'E = 4$ et $CC' = EE' = 2\sqrt{5}$.

On obtient la longueur DE dans le triangle rectangle DEE' : $DE = \sqrt{21}$ (on a $DE' = 4 - 3 = 1$)

ELEMENTS DE CORRECTION



MINISTÈRE DE
L'ÉDUCATION NATIONALE

MINISTÈRE DE
L'ENSEIGNEMENT SUPÉRIEUR
ET DE LA RECHERCHE



Olympiades académiques de mathématiques

Classes de quatrième

Concours René Merckhoffer

Jeudi 3 avril 2014

Durée de l'épreuve : 2 heures.

Les calculatrices sont autorisées.

Les quatre exercices sont à traiter. Les candidats sont invités à faire figurer sur les copies les résultats, même partiels, auxquels ils sont parvenus, et les idées qui leur sont venues.

Exercice 1 : des pyramides de Pascal

1. a. On complète l'exemple de pyramide de Pascal donné en exemple par le sujet :

		7		2								
		7		9		2						
		7		16		11		2				
		7		23		27		13		2		
		7		30		50		40		15		2

- b. On obtient $L_1 = 9$ sur la 1^{ère} ligne, $L_2 = 18$ sur la 2^{ème} ligne, $L_3 = 36$ sur la 3^{ème} ligne, $L_4 = 72$ sur la 4^{ème} ligne et $L_5 = 144$ sur la 5^{ème} ligne.
On remarque que la somme double lorsque l'on passe d'une ligne à celle située en dessous.

2. Si l'on considère la pyramide de Pascal associée aux nombres entiers $m = 1$ et $n = 1$, alors sur la 1^{ère} ligne la somme des nombres est égale à 2.

D'après la règle vue ci-dessus, la somme des nombres sera égale à :

$4 = 2^2$ sur la 2^{ème} ligne, $8 = 2^3$ sur la 3^{ème} ligne, ..., $256 = 2^8$ sur la 8^{ème} ligne, $512 = 2^9$ sur la 9^{ème} ligne et enfin $1024 = 2^{10}$ sur la dixième ligne.

3. Si on remplit la pyramide de Pascal avec deux nombres entiers positifs m et n , on obtient :

		m		n							
		m		m+n		n					
		m		2m+n		m+2n		n			
		m		3m+n		3m+3n		m+3n		n	
		m									n

La somme des nombres de la troisième ligne est égale à $S = 4m + 4n$ et la somme des nombres sur la quatrième ligne est égale à $S' = 8m + 8n = 2(4m + 4n) = 2S$

4. Si on note n le nombre entier inconnu sur la première ligne, on obtient :

		3		n								
		3		3+n		n						
		3		6+n		3+2n		n				
		3		9+n		9+3n		3+3n		n		
		3		12+n		46		12+6n		3+4n		n

Par conséquent, selon les règles de la pyramide : $(9 + n) + (9 + 3n) = 46$ soit $n = 7$.

On obtient aisément la pyramide en remplaçant n par 7

Exercice 2 : la frise

En assemblant les quatre premières formes (une blanche, une grise claire, une grise foncée puis une hachurée), Christophe a obtenu un motif dont le périmètre est égal à 42cm. Afin de réaliser la frise dans son ensemble, il peut, dans un premier temps, construire dix motifs identiques au précédent. Il doit ensuite les assembler les uns à la suite des autres. Du fait de l'emboîtement des deux pièces (respectivement hachurée et blanche), pour chaque nouveau motif ajouté, le périmètre de l'ensemble augmente de $32 = 42 - 10$.

Au final, lorsqu'il aura assemblé les dix motifs (c'est-à-dire les 40 formes découpées), le périmètre du puzzle sera égale à $P = 42 + 9 \times 32 = 330$ (ou $P = 10 \times 42 - 9 \times 10$)

Exercice 3 : le tableau

De nombreuses propriétés peuvent être observées et conjecturées dans le tableau : l'une d'elles consiste à remarquer que l'on peut parcourir les cases successivement en rajoutant +3 à chaque étape afin d'obtenir la suite des nombres entiers du tableau. En remarquant alors que :

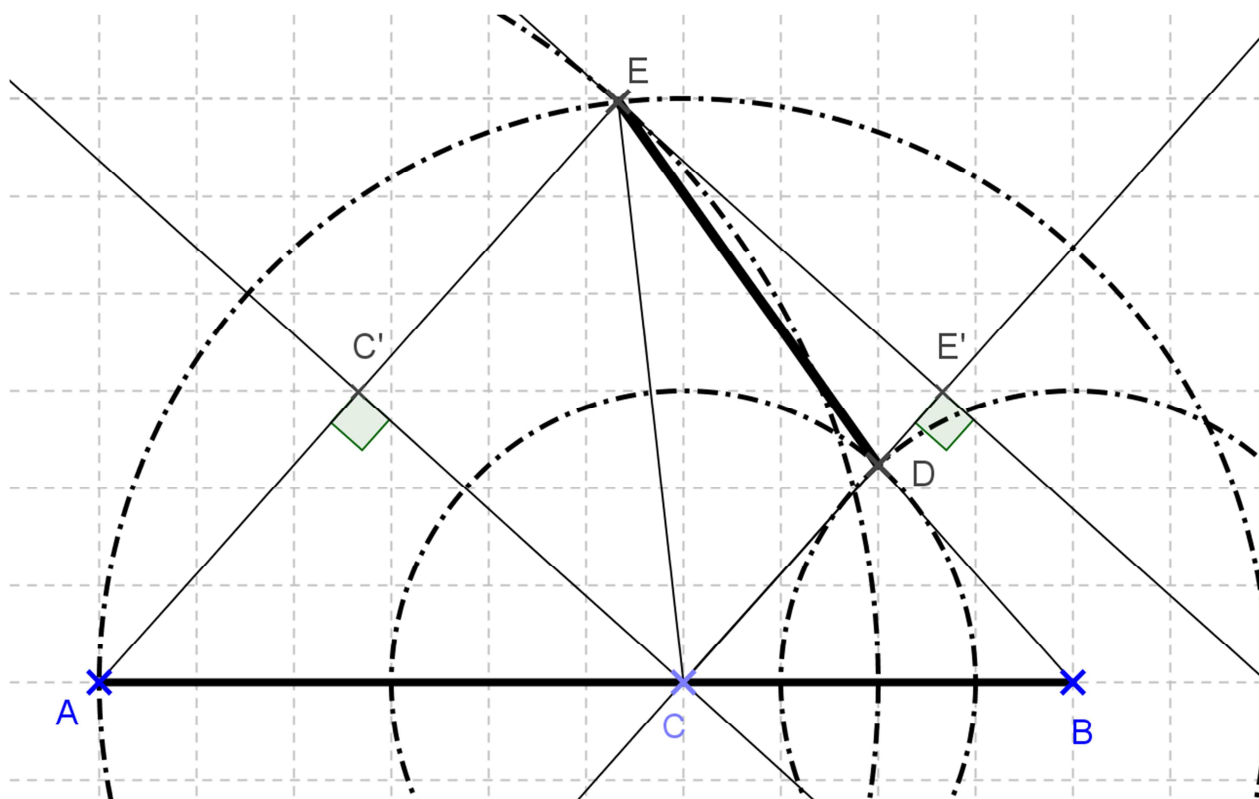
$$2014 = 1 + 671 \times 3$$

On peut affirmer que 2014 se trouvera dans le tableau à la 672^{ème} case (si on le remplit en inscrivant les nombres entiers du tableau dans un ordre croissant à partir de la 1^{ère} case contenant l'entier 1).

On peut alors ensuite remarquer que pour remplir deux lignes, il y a 8 cases. Or $672 = 84 \times 8$! la 672^{ème} case se trouve donc sur la colonne A et sur la 84^{ème} ligne.

A	B	C	D	E
	1	4	7	
22	19	16	13	10
	25	28	31	
46	43	40	37	34
	49	52	55	
70	67	64	61	58

Exercice 4 : d'une distance à l'autre



La correction doit absolument valoriser l'engagement dans une démarche et la réalisation de celle-ci. Ainsi, toute conjecture illustrée par un dessin sera prise en compte dans votre évaluation. Parmi les différentes démarches possibles, l'une d'elles consiste à démontrer que les droites (AE) et (CD) sont parallèles (ACDE est un trapèze) :

Les triangles BCD et CAE sont isocèles respectivement en D et en C donc

$$\cos(\widehat{BCD}) = \frac{2}{3} = \frac{4}{6} = \cos(\widehat{CAE}).$$

Les angles \widehat{BCD} et \widehat{CAE} sont donc égaux et les droites (AE) et (CD) sont parallèles.

Si on appelle C' le milieu du segment [AE] et E' le projeté orthogonal du point E sur la droite (CD), alors CC'EE' est un rectangle avec $CE' = C'E = 4$ et $CC' = EE' = 2\sqrt{5}$.

On obtient la longueur DE dans le triangle rectangle DEE' : $DE = \sqrt{21}$ (on a $DE' = 4 - 3 = 1$)

ELEMENTS DE CORRECTION



MINISTÈRE DE
L'ÉDUCATION NATIONALE

MINISTÈRE DE
L'ENSEIGNEMENT SUPÉRIEUR
ET DE LA RECHERCHE



Olympiades académiques de mathématiques

Classes de quatrième

Concours René Merckhoffer

Jeudi 3 avril 2014

Durée de l'épreuve : 2 heures.

Les calculatrices sont autorisées.

Les quatre exercices sont à traiter. Les candidats sont invités à faire figurer sur les copies les résultats, même partiels, auxquels ils sont parvenus, et les idées qui leur sont venues.

Exercice 1 : des pyramides de Pascal

1. a. On complète l'exemple de pyramide de Pascal donné en exemple par le sujet :

		7		2								
		7		9		2						
		7		16		11		2				
		7		23		27		13		2		
		7		30		50		40		15		2

- b. On obtient $L_1 = 9$ sur la 1^{ère} ligne, $L_2 = 18$ sur la 2^{ème} ligne, $L_3 = 36$ sur la 3^{ème} ligne, $L_4 = 72$ sur la 4^{ème} ligne et $L_5 = 144$ sur la 5^{ème} ligne.
On remarque que la somme double lorsque l'on passe d'une ligne à celle située en dessous.

2. Si l'on considère la pyramide de Pascal associée aux nombres entiers $m = 1$ et $n = 1$, alors sur la 1^{ère} ligne la somme des nombres est égale à 2.

D'après la règle vue ci-dessus, la somme des nombres sera égale à :

$4 = 2^2$ sur la 2^{ème} ligne, $8 = 2^3$ sur la 3^{ème} ligne, ..., $256 = 2^8$ sur la 8^{ème} ligne, $512 = 2^9$ sur la 9^{ème} ligne et enfin $1024 = 2^{10}$ sur la dixième ligne.

3. Si on remplit la pyramide de Pascal avec deux nombres entiers positifs m et n , on obtient :

		m		n							
		m		m+n		n					
		m		2m+n		m+2n		n			
		m		3m+n		3m+3n		m+3n		n	
		m									n

La somme des nombres de la troisième ligne est égale à $S = 4m + 4n$ et la somme des nombres sur la quatrième ligne est égale à $S' = 8m + 8n = 2(4m + 4n) = 2S$

4. Si on note n le nombre entier inconnu sur la première ligne, on obtient :

		3		n								
		3		3+n		n						
		3		6+n		3+2n		n				
		3		9+n		9+3n		3+3n		n		
		3		12+n		46		12+6n		3+4n		n

Par conséquent, selon les règles de la pyramide : $(9 + n) + (9 + 3n) = 46$ soit $n = 7$.

On obtient aisément la pyramide en remplaçant n par 7

Exercice 2 : la frise

En assemblant les quatre premières formes (une blanche, une grise claire, une grise foncée puis une hachurée), Christophe a obtenu un motif dont le périmètre est égal à 42cm. Afin de réaliser la frise dans son ensemble, il peut, dans un premier temps, construire dix motifs identiques au précédent. Il doit ensuite les assembler les uns à la suite des autres. Du fait de l'emboîtement des deux pièces (respectivement hachurée et blanche), pour chaque nouveau motif ajouté, le périmètre de l'ensemble augmente de $32 = 42 - 10$.

Au final, lorsqu'il aura assemblé les dix motifs (c'est-à-dire les 40 formes découpées), le périmètre du puzzle sera égale à $P = 42 + 9 \times 32 = 330$ (ou $P = 10 \times 42 - 9 \times 10$)

Exercice 3 : le tableau

De nombreuses propriétés peuvent être observées et conjecturées dans le tableau : l'une d'elles consiste à remarquer que l'on peut parcourir les cases successivement en rajoutant +3 à chaque étape afin d'obtenir la suite des nombres entiers du tableau. En remarquant alors que :

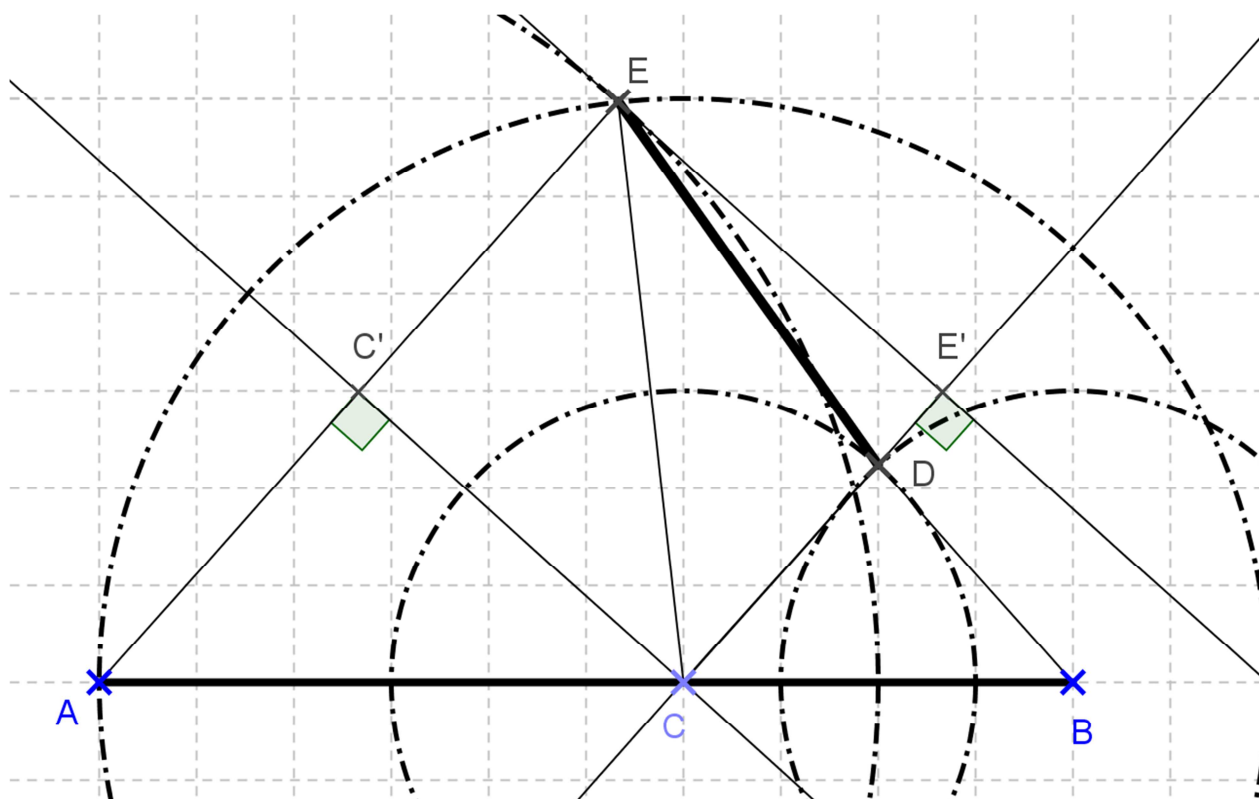
$$2014 = 1 + 671 \times 3$$

On peut affirmer que 2014 se trouvera dans le tableau à la 672^{ème} case (si on le remplit en inscrivant les nombres entiers du tableau dans un ordre croissant à partir de la 1^{ère} case contenant l'entier 1).

On peut alors ensuite remarquer que pour remplir deux lignes, il y a 8 cases. Or $672 = 84 \times 8$! la 672^{ème} case se trouve donc sur la colonne A et sur la 84^{ème} ligne.

A	B	C	D	E
	1	4	7	
22	19	16	13	10
	25	28	31	
46	43	40	37	34
	49	52	55	
70	67	64	61	58

Exercice 4 : d'une distance à l'autre



La correction doit absolument valoriser l'engagement dans une démarche et la réalisation de celle-ci. Ainsi, toute conjecture illustrée par un dessin sera prise en compte dans votre évaluation. Parmi les différentes démarches possibles, l'une d'elles consiste à démontrer que les droites (AE) et (CD) sont parallèles (ACDE est un trapèze) :

Les triangles BCD et CAE sont isocèles respectivement en D et en C donc

$$\cos(\widehat{BCD}) = \frac{2}{3} = \frac{4}{6} = \cos(\widehat{CAE}).$$

Les angles \widehat{BCD} et \widehat{CAE} sont donc égaux et les droites (AE) et (CD) sont parallèles.

Si on appelle C' le milieu du segment [AE] et E' le projeté orthogonal du point E sur la droite (CD), alors CC'EE' est un rectangle avec $CE' = C'E = 4$ et $CC' = EE' = 2\sqrt{5}$.

On obtient la longueur DE dans le triangle rectangle DEE' : $DE = \sqrt{21}$ (on a $DE' = 4 - 3 = 1$)

ELEMENTS DE CORRECTION



MINISTÈRE DE
L'ÉDUCATION NATIONALE

MINISTÈRE DE
L'ENSEIGNEMENT SUPÉRIEUR
ET DE LA RECHERCHE



Olympiades académiques de mathématiques

Classes de quatrième

Concours René Merckhoffer

Jeudi 3 avril 2014

Durée de l'épreuve : 2 heures.

Les calculatrices sont autorisées.

Les quatre exercices sont à traiter. Les candidats sont invités à faire figurer sur les copies les résultats, même partiels, auxquels ils sont parvenus, et les idées qui leur sont venues.

Exercice 1 : des pyramides de Pascal

1. a. On complète l'exemple de pyramide de Pascal donné en exemple par le sujet :

		7		2								
		7		9		2						
		7		16		11		2				
		7		23		27		13		2		
		7		30		50		40		15		2

- b. On obtient $L_1 = 9$ sur la 1^{ère} ligne, $L_2 = 18$ sur la 2^{ème} ligne, $L_3 = 36$ sur la 3^{ème} ligne, $L_4 = 72$ sur la 4^{ème} ligne et $L_5 = 144$ sur la 5^{ème} ligne.
On remarque que la somme double lorsque l'on passe d'une ligne à celle située en dessous.

2. Si l'on considère la pyramide de Pascal associée aux nombres entiers $m = 1$ et $n = 1$, alors sur la 1^{ère} ligne la somme des nombres est égale à 2.

D'après la règle vue ci-dessus, la somme des nombres sera égale à :

$4 = 2^2$ sur la 2^{ème} ligne, $8 = 2^3$ sur la 3^{ème} ligne, ..., $256 = 2^8$ sur la 8^{ème} ligne, $512 = 2^9$ sur la 9^{ème} ligne et enfin $1024 = 2^{10}$ sur la dixième ligne.

3. Si on remplit la pyramide de Pascal avec deux nombres entiers positifs m et n , on obtient :

		m		n							
		m		m+n		n					
		m		2m+n		m+2n		n			
		m		3m+n		3m+3n		m+3n		n	
		m									n

La somme des nombres de la troisième ligne est égale à $S = 4m + 4n$ et la somme des nombres sur la quatrième ligne est égale à $S' = 8m + 8n = 2(4m + 4n) = 2S$

4. Si on note n le nombre entier inconnu sur la première ligne, on obtient :

		3		n								
		3		3+n		n						
		3		6+n		3+2n		n				
		3		9+n		9+3n		3+3n		n		
		3		12+n		46		12+6n		3+4n		n

Par conséquent, selon les règles de la pyramide : $(9 + n) + (9 + 3n) = 46$ soit $n = 7$.

On obtient aisément la pyramide en remplaçant n par 7

Exercice 2 : la frise

En assemblant les quatre premières formes (une blanche, une grise claire, une grise foncée puis une hachurée), Christophe a obtenu un motif dont le périmètre est égal à 42cm. Afin de réaliser la frise dans son ensemble, il peut, dans un premier temps, construire dix motifs identiques au précédent. Il doit ensuite les assembler les uns à la suite des autres. Du fait de l'emboîtement des deux pièces (respectivement hachurée et blanche), pour chaque nouveau motif ajouté, le périmètre de l'ensemble augmente de $32 = 42 - 10$.

Au final, lorsqu'il aura assemblé les dix motifs (c'est-à-dire les 40 formes découpées), le périmètre du puzzle sera égale à $P = 42 + 9 \times 32 = 330$ (ou $P = 10 \times 42 - 9 \times 10$)

Exercice 3 : le tableau

De nombreuses propriétés peuvent être observées et conjecturées dans le tableau : l'une d'elles consiste à remarquer que l'on peut parcourir les cases successivement en rajoutant +3 à chaque étape afin d'obtenir la suite des nombres entiers du tableau. En remarquant alors que :

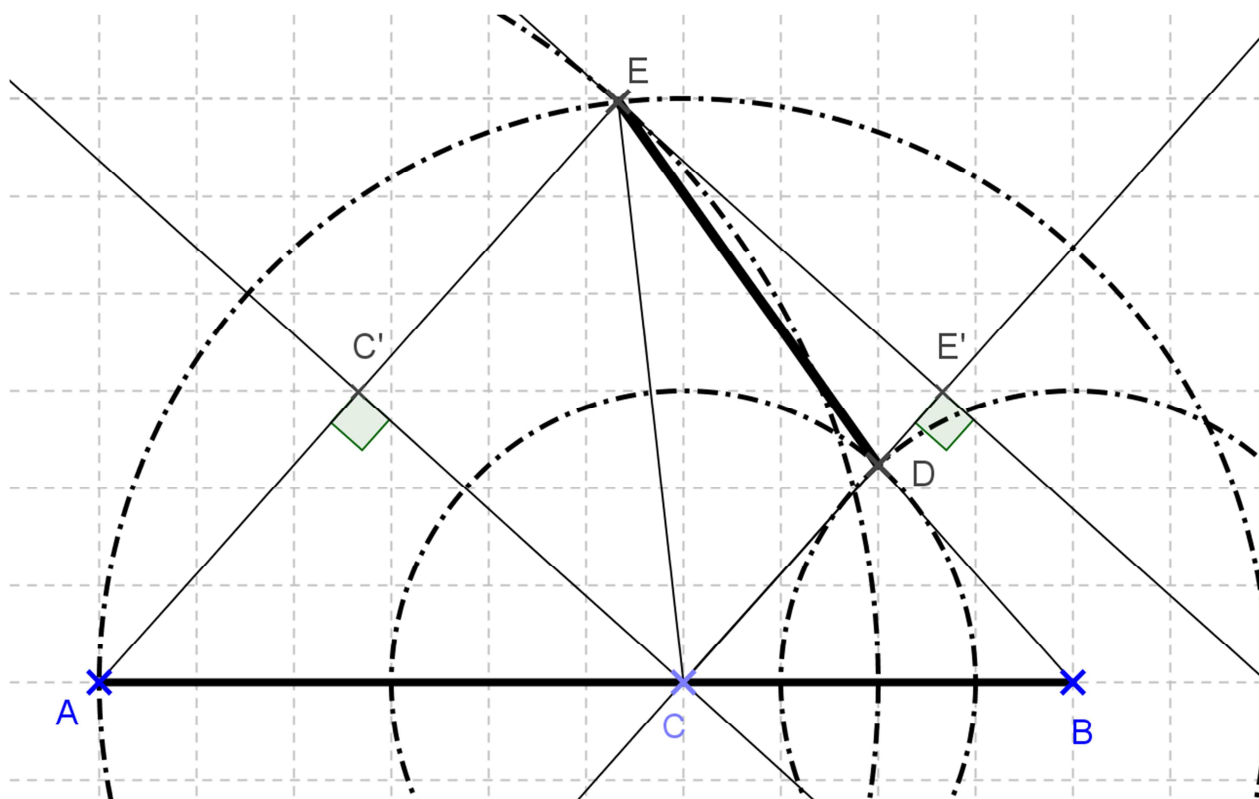
$$2014 = 1 + 671 \times 3$$

On peut affirmer que 2014 se trouvera dans le tableau à la 672^{ème} case (si on le remplit en inscrivant les nombres entiers du tableau dans un ordre croissant à partir de la 1^{ère} case contenant l'entier 1).

On peut alors ensuite remarquer que pour remplir deux lignes, il y a 8 cases. Or $672 = 84 \times 8$! la 672^{ème} case se trouve donc sur la colonne A et sur la 84^{ème} ligne.

A	B	C	D	E
	1	4	7	
22	19	16	13	10
	25	28	31	
46	43	40	37	34
	49	52	55	
70	67	64	61	58

Exercice 4 : d'une distance à l'autre



La correction doit absolument valoriser l'engagement dans une démarche et la réalisation de celle-ci. Ainsi, toute conjecture illustrée par un dessin sera prise en compte dans votre évaluation. Parmi les différentes démarches possibles, l'une d'elles consiste à démontrer que les droites (AE) et (CD) sont parallèles (ACDE est un trapèze) :

Les triangles BCD et CAE sont isocèles respectivement en D et en C donc

$$\cos(\widehat{BCD}) = \frac{2}{3} = \frac{4}{6} = \cos(\widehat{CAE}).$$

Les angles \widehat{BCD} et \widehat{CAE} sont donc égaux et les droites (AE) et (CD) sont parallèles.

Si on appelle C' le milieu du segment [AE] et E' le projeté orthogonal du point E sur la droite (CD), alors CC'EE' est un rectangle avec $CE' = C'E = 4$ et $CC' = EE' = 2\sqrt{5}$.

On obtient la longueur DE dans le triangle rectangle DEE' : $DE = \sqrt{21}$ (on a $DE' = 4 - 3 = 1$)

ELEMENTS DE CORRECTION



MINISTÈRE DE
L'ÉDUCATION NATIONALE

MINISTÈRE DE
L'ENSEIGNEMENT SUPÉRIEUR
ET DE LA RECHERCHE



Olympiades académiques de mathématiques

Classes de quatrième

Concours René Merckhoffer

Jeudi 3 avril 2014

Durée de l'épreuve : 2 heures.

Les calculatrices sont autorisées.

Les quatre exercices sont à traiter. Les candidats sont invités à faire figurer sur les copies les résultats, même partiels, auxquels ils sont parvenus, et les idées qui leur sont venues.

Exercice 1 : des pyramides de Pascal

1. a. On complète l'exemple de pyramide de Pascal donné en exemple par le sujet :

7		2									
7		9	2								
7		16		11	2						
7		23		27		13		2			
7		30		50		40		15		2	

- b. On obtient $L_1 = 9$ sur la 1^{ère} ligne, $L_2 = 18$ sur la 2^{ème} ligne, $L_3 = 36$ sur la 3^{ème} ligne, $L_4 = 72$ sur la 4^{ème} ligne et $L_5 = 144$ sur la 5^{ème} ligne.
On remarque que la somme double lorsque l'on passe d'une ligne à celle située en dessous.

2. Si l'on considère la pyramide de Pascal associée aux nombres entiers $m = 1$ et $n = 1$, alors sur la 1^{ère} ligne la somme des nombres est égale à 2.

D'après la règle vue ci-dessus, la somme des nombres sera égale à :

$4 = 2^2$ sur la 2^{ème} ligne, $8 = 2^3$ sur la 3^{ème} ligne, ..., $256 = 2^8$ sur la 8^{ème} ligne, $512 = 2^9$ sur la 9^{ème} ligne et enfin $1024 = 2^{10}$ sur la dixième ligne.

3. Si on remplit la pyramide de Pascal avec deux nombres entiers positifs m et n , on obtient :

m		n							
m		m+n		n					
m		2m+n		m+2n		n			
m		3m+n		3m+3n		m+3n		n	
m								n	

La somme des nombres de la troisième ligne est égale à $S = 4m + 4n$ et la somme des nombres sur la quatrième ligne est égale à $S' = 8m + 8n = 2(4m + 4n) = 2S$

4. Si on note n le nombre entier inconnu sur la première ligne, on obtient :

3		n									
3		3 + n		n							
3		6 + n		3 + 2n		n					
3		9 + n		9 + 3n		3 + 3n		n			
3		12 + n		46		12 + 6n		3 + 4n		n	

Par conséquent, selon les règles de la pyramide : $(9 + n) + (9 + 3n) = 46$ soit $n = 7$.

On obtient aisément la pyramide en remplaçant n par 7

Exercice 2 : la frise

En assemblant les quatre premières formes (une blanche, une grise claire, une grise foncée puis une hachurée), Christophe a obtenu un motif dont le périmètre est égal à 42cm. Afin de réaliser la frise dans son ensemble, il peut, dans un premier temps, construire dix motifs identiques au précédent. Il doit ensuite les assembler les uns à la suite des autres. Du fait de l'emboîtement des deux pièces (respectivement hachurée et blanche), pour chaque nouveau motif ajouté, le périmètre de l'ensemble augmente de $32 = 42 - 10$.

Au final, lorsqu'il aura assemblé les dix motifs (c'est-à-dire les 40 formes découpées), le périmètre du puzzle sera égale à $P = 42 + 9 \times 32 = 330$ (ou $P = 10 \times 42 - 9 \times 10$)

Exercice 3 : le tableau

De nombreuses propriétés peuvent être observées et conjecturées dans le tableau : l'une d'elles consiste à remarquer que l'on peut parcourir les cases successivement en rajoutant +3 à chaque étape afin d'obtenir la suite des nombres entiers du tableau. En remarquant alors que :

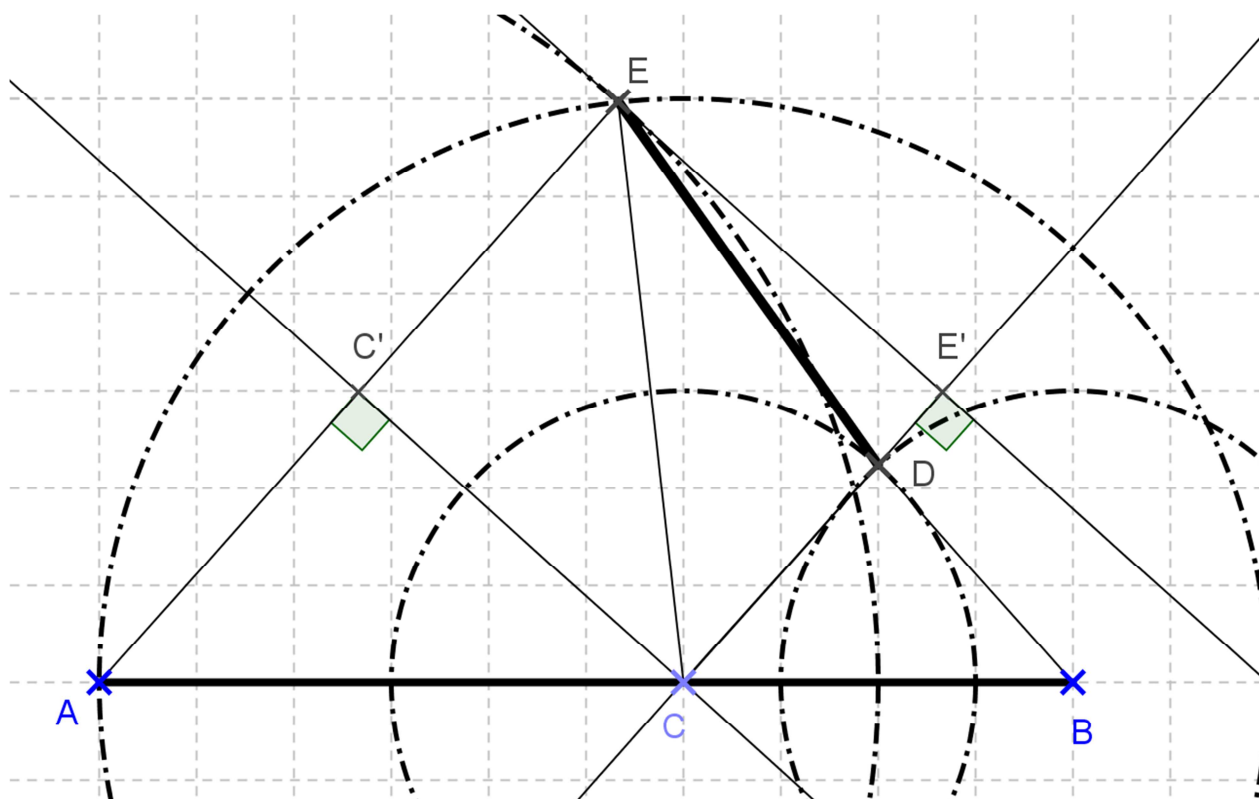
$$2014 = 1 + 671 \times 3$$

On peut affirmer que 2014 se trouvera dans le tableau à la 672^{ème} case (si on le remplit en inscrivant les nombres entiers du tableau dans un ordre croissant à partir de la 1^{ère} case contenant l'entier 1).

On peut alors ensuite remarquer que pour remplir deux lignes, il y a 8 cases. Or $672 = 84 \times 8$! la 672^{ème} case se trouve donc sur la colonne A et sur la 84^{ème} ligne.

A	B	C	D	E
	1	4	7	
22	19	16	13	10
	25	28	31	
46	43	40	37	34
	49	52	55	
70	67	64	61	58

Exercice 4 : d'une distance à l'autre



La correction doit absolument valoriser l'engagement dans une démarche et la réalisation de celle-ci. Ainsi, toute conjecture illustrée par un dessin sera prise en compte dans votre évaluation. Parmi les différentes démarches possibles, l'une d'elles consiste à démontrer que les droites (AE) et (CD) sont parallèles (ACDE est un trapèze) :

Les triangles BCD et CAE sont isocèles respectivement en D et en C donc

$$\cos(\widehat{BCD}) = \frac{2}{3} = \frac{4}{6} = \cos(\widehat{CAE}).$$

Les angles \widehat{BCD} et \widehat{CAE} sont donc égaux et les droites (AE) et (CD) sont parallèles.

Si on appelle C' le milieu du segment [AE] et E' le projeté orthogonal du point E sur la droite (CD), alors CC'EE' est un rectangle avec $CE' = C'E = 4$ et $CC' = EE' = 2\sqrt{5}$.

On obtient la longueur DE dans le triangle rectangle DEE' : $DE = \sqrt{21}$ (on a $DE' = 4 - 3 = 1$)

ELEMENTS DE CORRECTION



MINISTÈRE DE
L'ÉDUCATION NATIONALE

MINISTÈRE DE
L'ENSEIGNEMENT SUPÉRIEUR
ET DE LA RECHERCHE



Olympiades académiques de mathématiques

Classes de quatrième

Concours René Merckhoffer

Jeudi 3 avril 2014

Durée de l'épreuve : 2 heures.

Les calculatrices sont autorisées.

Les quatre exercices sont à traiter. Les candidats sont invités à faire figurer sur les copies les résultats, même partiels, auxquels ils sont parvenus, et les idées qui leur sont venues.

Exercice 1 : des pyramides de Pascal

1. a. On complète l'exemple de pyramide de Pascal donné en exemple par le sujet :

		7		2								
		7		9		2						
		7		16		11		2				
		7		23		27		13		2		
		7		30		50		40		15		2

- b. On obtient $L_1 = 9$ sur la 1^{ère} ligne, $L_2 = 18$ sur la 2^{ème} ligne, $L_3 = 36$ sur la 3^{ème} ligne, $L_4 = 72$ sur la 4^{ème} ligne et $L_5 = 144$ sur la 5^{ème} ligne.
On remarque que la somme double lorsque l'on passe d'une ligne à celle située en dessous.

2. Si l'on considère la pyramide de Pascal associée aux nombres entiers $m = 1$ et $n = 1$, alors sur la 1^{ère} ligne la somme des nombres est égale à 2.

D'après la règle vue ci-dessus, la somme des nombres sera égale à :

$4 = 2^2$ sur la 2^{ème} ligne, $8 = 2^3$ sur la 3^{ème} ligne, ..., $256 = 2^8$ sur la 8^{ème} ligne, $512 = 2^9$ sur la 9^{ème} ligne et enfin $1024 = 2^{10}$ sur la dixième ligne.

3. Si on remplit la pyramide de Pascal avec deux nombres entiers positifs m et n , on obtient :

		m		n							
		m		m+n		n					
		m		2m+n		m+2n		n			
		m		3m+n		3m+3n		m+3n		n	
		m									n

La somme des nombres de la troisième ligne est égale à $S = 4m + 4n$ et la somme des nombres sur la quatrième ligne est égale à $S' = 8m + 8n = 2(4m + 4n) = 2S$

4. Si on note n le nombre entier inconnu sur la première ligne, on obtient :

		3		n								
		3		3+n		n						
		3		6+n		3+2n		n				
		3		9+n		9+3n		3+3n		n		
		3		12+n		46		12+6n		3+4n		n

Par conséquent, selon les règles de la pyramide : $(9 + n) + (9 + 3n) = 46$ soit $n = 7$.

On obtient aisément la pyramide en remplaçant n par 7

Exercice 2 : la frise

En assemblant les quatre premières formes (une blanche, une grise claire, une grise foncée puis une hachurée), Christophe a obtenu un motif dont le périmètre est égal à 42cm. Afin de réaliser la frise dans son ensemble, il peut, dans un premier temps, construire dix motifs identiques au précédent. Il doit ensuite les assembler les uns à la suite des autres. Du fait de l'emboîtement des deux pièces (respectivement hachurée et blanche), pour chaque nouveau motif ajouté, le périmètre de l'ensemble augmente de $32 = 42 - 10$.

Au final, lorsqu'il aura assemblé les dix motifs (c'est-à-dire les 40 formes découpées), le périmètre du puzzle sera égale à $P = 42 + 9 \times 32 = 330$ (ou $P = 10 \times 42 - 9 \times 10$)

Exercice 3 : le tableau

De nombreuses propriétés peuvent être observées et conjecturées dans le tableau : l'une d'elles consiste à remarquer que l'on peut parcourir les cases successivement en rajoutant +3 à chaque étape afin d'obtenir la suite des nombres entiers du tableau. En remarquant alors que :

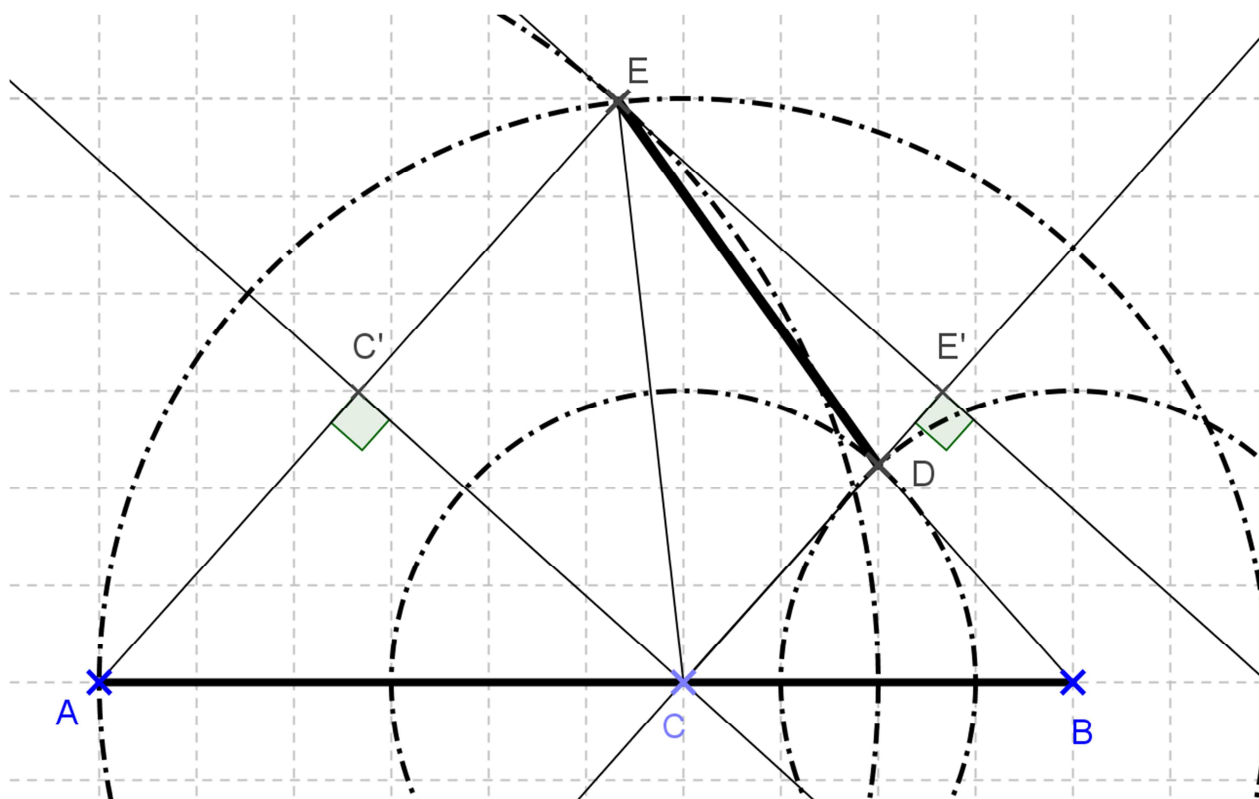
$$2014 = 1 + 671 \times 3$$

On peut affirmer que 2014 se trouvera dans le tableau à la 672^{ème} case (si on le remplit en inscrivant les nombres entiers du tableau dans un ordre croissant à partir de la 1^{ère} case contenant l'entier 1).

On peut alors ensuite remarquer que pour remplir deux lignes, il y a 8 cases. Or $672 = 84 \times 8$! la 672^{ème} case se trouve donc sur la colonne A et sur la 84^{ème} ligne.

A	B	C	D	E
	1	4	7	
22	19	16	13	10
	25	28	31	
46	43	40	37	34
	49	52	55	
70	67	64	61	58

Exercice 4 : d'une distance à l'autre



La correction doit absolument valoriser l'engagement dans une démarche et la réalisation de celle-ci. Ainsi, toute conjecture illustrée par un dessin sera prise en compte dans votre évaluation. Parmi les différentes démarches possibles, l'une d'elles consiste à démontrer que les droites (AE) et (CD) sont parallèles (ACDE est un trapèze) :

Les triangles BCD et CAE sont isocèles respectivement en D et en C donc

$$\cos(\widehat{BCD}) = \frac{2}{3} = \frac{4}{6} = \cos(\widehat{CAE}).$$

Les angles \widehat{BCD} et \widehat{CAE} sont donc égaux et les droites (AE) et (CD) sont parallèles.

Si on appelle C' le milieu du segment [AE] et E' le projeté orthogonal du point E sur la droite (CD), alors CC'EE' est un rectangle avec $CE' = C'E = 4$ et $CC' = EE' = 2\sqrt{5}$.

On obtient la longueur DE dans le triangle rectangle DEE' : $DE = \sqrt{21}$ (on a $DE' = 4 - 3 = 1$)

ELEMENTS DE CORRECTION



MINISTÈRE DE
L'ÉDUCATION NATIONALE

MINISTÈRE DE
L'ENSEIGNEMENT SUPÉRIEUR
ET DE LA RECHERCHE



Olympiades académiques de mathématiques

Classes de quatrième

Concours René Merckhoffer

Jeudi 3 avril 2014

Durée de l'épreuve : 2 heures.

Les calculatrices sont autorisées.

Les quatre exercices sont à traiter. Les candidats sont invités à faire figurer sur les copies les résultats, même partiels, auxquels ils sont parvenus, et les idées qui leur sont venues.

Exercice 1 : des pyramides de Pascal

1. a. On complète l'exemple de pyramide de Pascal donné en exemple par le sujet :

		7		2								
		7		9		2						
		7		16		11		2				
		7		23		27		13		2		
		7		30		50		40		15		2

- b. On obtient $L_1 = 9$ sur la 1^{ère} ligne, $L_2 = 18$ sur la 2^{ème} ligne, $L_3 = 36$ sur la 3^{ème} ligne, $L_4 = 72$ sur la 4^{ème} ligne et $L_5 = 144$ sur la 5^{ème} ligne.
On remarque que la somme double lorsque l'on passe d'une ligne à celle située en dessous.

2. Si l'on considère la pyramide de Pascal associée aux nombres entiers $m = 1$ et $n = 1$, alors sur la 1^{ère} ligne la somme des nombres est égale à 2.

D'après la règle vue ci-dessus, la somme des nombres sera égale à :

$4 = 2^2$ sur la 2^{ème} ligne, $8 = 2^3$ sur la 3^{ème} ligne, ..., $256 = 2^8$ sur la 8^{ème} ligne, $512 = 2^9$ sur la 9^{ème} ligne et enfin $1024 = 2^{10}$ sur la dixième ligne.

3. Si on remplit la pyramide de Pascal avec deux nombres entiers positifs m et n , on obtient :

		m		n							
		m		m+n		n					
		m		2m+n		m+2n		n			
		m		3m+n		3m+3n		m+3n		n	
		m									n

La somme des nombres de la troisième ligne est égale à $S = 4m + 4n$ et la somme des nombres sur la quatrième ligne est égale à $S' = 8m + 8n = 2(4m + 4n) = 2S$

4. Si on note n le nombre entier inconnu sur la première ligne, on obtient :

		3		n								
		3		3+n		n						
		3		6+n		3+2n		n				
		3		9+n		9+3n		3+3n		n		
		3		12+n		46		12+6n		3+4n		n

Par conséquent, selon les règles de la pyramide : $(9 + n) + (9 + 3n) = 46$ soit $n = 7$.

On obtient aisément la pyramide en remplaçant n par 7

Exercice 2 : la frise

En assemblant les quatre premières formes (une blanche, une grise claire, une grise foncée puis une hachurée), Christophe a obtenu un motif dont le périmètre est égal à 42cm. Afin de réaliser la frise dans son ensemble, il peut, dans un premier temps, construire dix motifs identiques au précédent. Il doit ensuite les assembler les uns à la suite des autres. Du fait de l'emboîtement des deux pièces (respectivement hachurée et blanche), pour chaque nouveau motif ajouté, le périmètre de l'ensemble augmente de $32 = 42 - 10$.

Au final, lorsqu'il aura assemblé les dix motifs (c'est-à-dire les 40 formes découpées), le périmètre du puzzle sera égale à $P = 42 + 9 \times 32 = 330$ (ou $P = 10 \times 42 - 9 \times 10$)

Exercice 3 : le tableau

De nombreuses propriétés peuvent être observées et conjecturées dans le tableau : l'une d'elles consiste à remarquer que l'on peut parcourir les cases successivement en rajoutant +3 à chaque étape afin d'obtenir la suite des nombres entiers du tableau. En remarquant alors que :

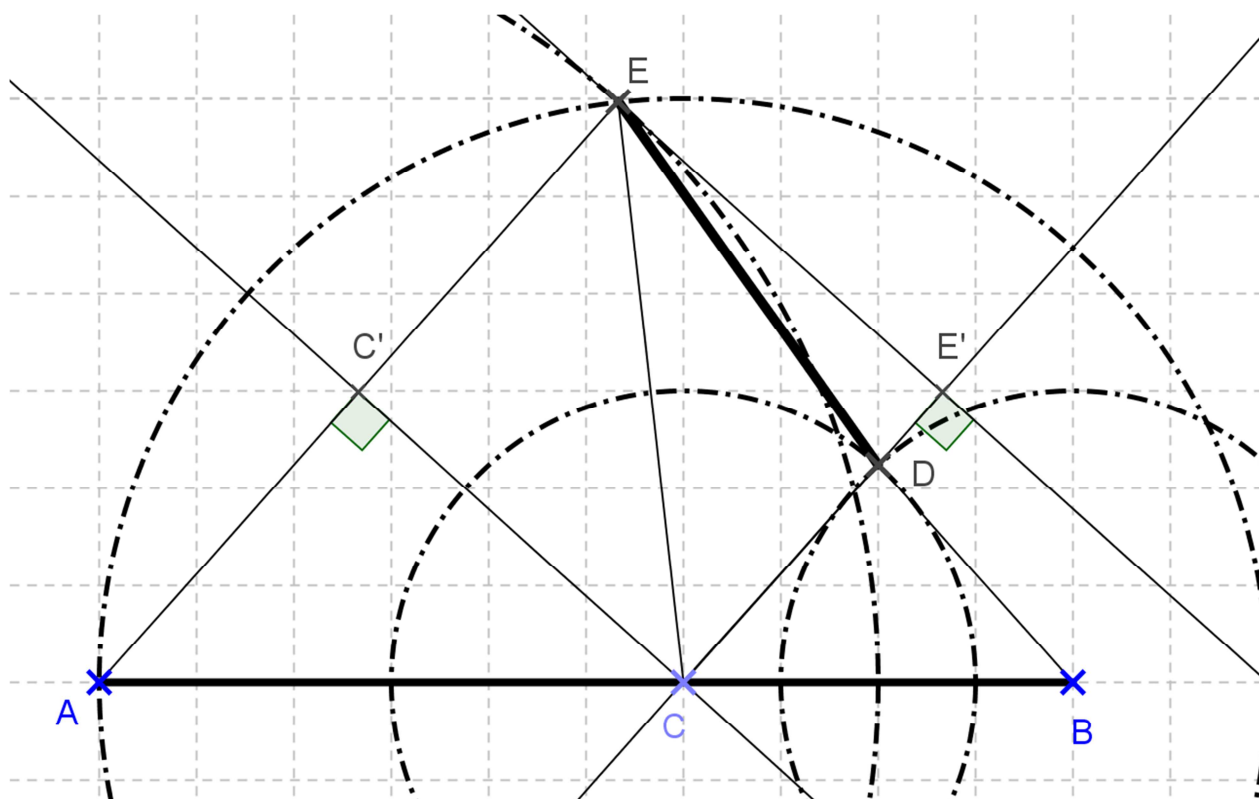
$$2014 = 1 + 671 \times 3$$

On peut affirmer que 2014 se trouvera dans le tableau à la 672^{ème} case (si on le remplit en inscrivant les nombres entiers du tableau dans un ordre croissant à partir de la 1^{ère} case contenant l'entier 1).

On peut alors ensuite remarquer que pour remplir deux lignes, il y a 8 cases. Or $672 = 84 \times 8$! la 672^{ème} case se trouve donc sur la colonne A et sur la 84^{ème} ligne.

A	B	C	D	E
	1	4	7	
22	19	16	13	10
	25	28	31	
46	43	40	37	34
	49	52	55	
70	67	64	61	58

Exercice 4 : d'une distance à l'autre



La correction doit absolument valoriser l'engagement dans une démarche et la réalisation de celle-ci. Ainsi, toute conjecture illustrée par un dessin sera prise en compte dans votre évaluation. Parmi les différentes démarches possibles, l'une d'elles consiste à démontrer que les droites (AE) et (CD) sont parallèles (ACDE est un trapèze) :

Les triangles BCD et CAE sont isocèles respectivement en D et en C donc

$$\cos(\widehat{BCD}) = \frac{2}{3} = \frac{4}{6} = \cos(\widehat{CAE}).$$

Les angles \widehat{BCD} et \widehat{CAE} sont donc égaux et les droites (AE) et (CD) sont parallèles.

Si on appelle C' le milieu du segment [AE] et E' le projeté orthogonal du point E sur la droite (CD), alors CC'EE' est un rectangle avec $CE' = C'E = 4$ et $CC' = EE' = 2\sqrt{5}$.

On obtient la longueur DE dans le triangle rectangle DEE' : $DE = \sqrt{21}$ (on a $DE' = 4 - 3 = 1$)

ELEMENTS DE CORRECTION



MINISTÈRE DE
L'ÉDUCATION NATIONALE

MINISTÈRE DE
L'ENSEIGNEMENT SUPÉRIEUR
ET DE LA RECHERCHE



Olympiades académiques de mathématiques

Classes de quatrième

Concours René Merckhoffer

Jeudi 3 avril 2014

Durée de l'épreuve : 2 heures.

Les calculatrices sont autorisées.

Les quatre exercices sont à traiter. Les candidats sont invités à faire figurer sur les copies les résultats, même partiels, auxquels ils sont parvenus, et les idées qui leur sont venues.

Exercice 1 : des pyramides de Pascal

1. a. On complète l'exemple de pyramide de Pascal donné en exemple par le sujet :

7		2									
7		9	2								
7		16		11	2						
7		23		27		13		2			
7		30		50		40		15		2	

- b. On obtient $L_1 = 9$ sur la 1^{ère} ligne, $L_2 = 18$ sur la 2^{ème} ligne, $L_3 = 36$ sur la 3^{ème} ligne, $L_4 = 72$ sur la 4^{ème} ligne et $L_5 = 144$ sur la 5^{ème} ligne.
On remarque que la somme double lorsque l'on passe d'une ligne à celle située en dessous.

2. Si l'on considère la pyramide de Pascal associée aux nombres entiers $m = 1$ et $n = 1$, alors sur la 1^{ère} ligne la somme des nombres est égale à 2.

D'après la règle vue ci-dessus, la somme des nombres sera égale à :

$4 = 2^2$ sur la 2^{ème} ligne, $8 = 2^3$ sur la 3^{ème} ligne, ..., $256 = 2^8$ sur la 8^{ème} ligne, $512 = 2^9$ sur la 9^{ème} ligne et enfin $1024 = 2^{10}$ sur la dixième ligne.

3. Si on remplit la pyramide de Pascal avec deux nombres entiers positifs m et n , on obtient :

m		n							
m		m+n		n					
m		2m+n		m+2n		n			
m		3m+n		3m+3n		m+3n		n	
m								n	

La somme des nombres de la troisième ligne est égale à $S = 4m + 4n$ et la somme des nombres sur la quatrième ligne est égale à $S' = 8m + 8n = 2(4m + 4n) = 2S$

4. Si on note n le nombre entier inconnu sur la première ligne, on obtient :

3		n									
3		3 + n		n							
3		6 + n		3 + 2n		n					
3		9 + n		9 + 3n		3 + 3n		n			
3		12 + n		46		12 + 6n		3 + 4n		n	

Par conséquent, selon les règles de la pyramide : $(9 + n) + (9 + 3n) = 46$ soit $n = 7$.

On obtient aisément la pyramide en remplaçant n par 7

Exercice 2 : la frise

En assemblant les quatre premières formes (une blanche, une grise claire, une grise foncée puis une hachurée), Christophe a obtenu un motif dont le périmètre est égal à 42cm. Afin de réaliser la frise dans son ensemble, il peut, dans un premier temps, construire dix motifs identiques au précédent. Il doit ensuite les assembler les uns à la suite des autres. Du fait de l'emboîtement des deux pièces (respectivement hachurée et blanche), pour chaque nouveau motif ajouté, le périmètre de l'ensemble augmente de $32 = 42 - 10$.

Au final, lorsqu'il aura assemblé les dix motifs (c'est-à-dire les 40 formes découpées), le périmètre du puzzle sera égale à $P = 42 + 9 \times 32 = 330$ (ou $P = 10 \times 42 - 9 \times 10$)

Exercice 3 : le tableau

De nombreuses propriétés peuvent être observées et conjecturées dans le tableau : l'une d'elles consiste à remarquer que l'on peut parcourir les cases successivement en rajoutant +3 à chaque étape afin d'obtenir la suite des nombres entiers du tableau. En remarquant alors que :

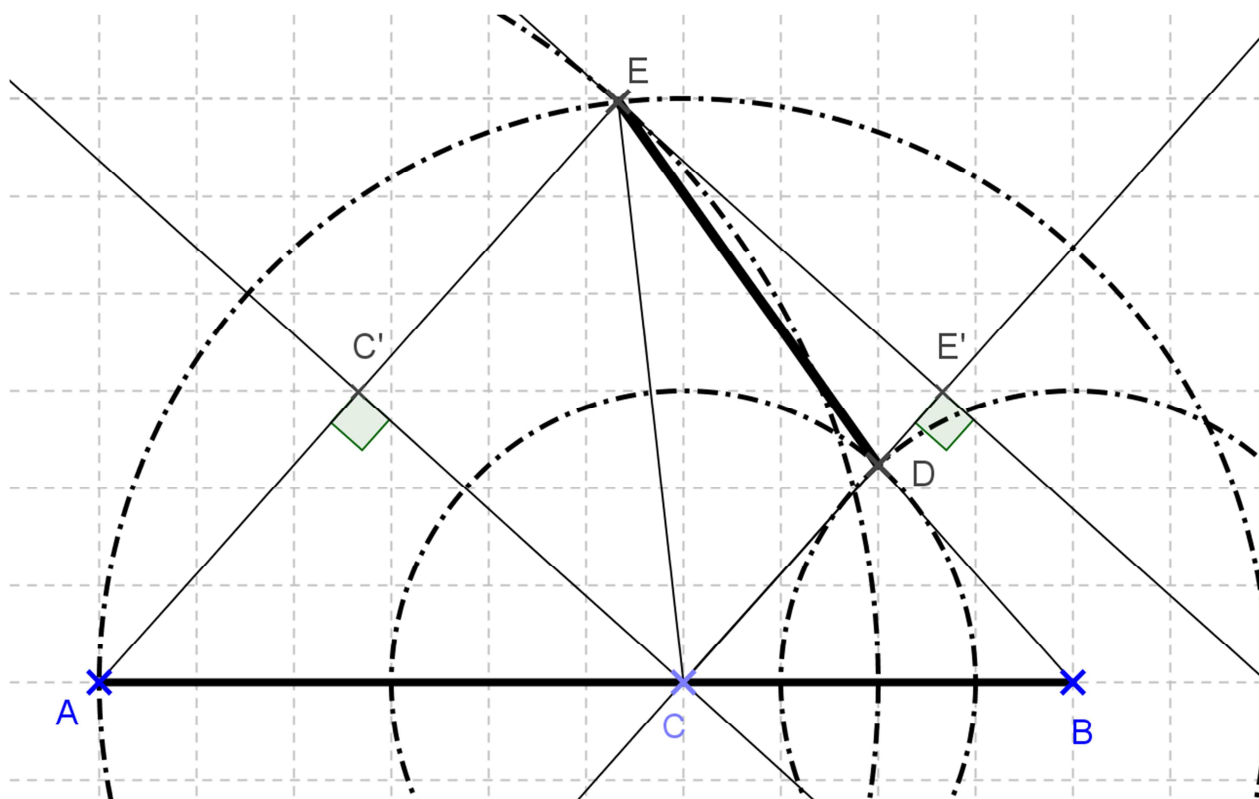
$$2014 = 1 + 671 \times 3$$

On peut affirmer que 2014 se trouvera dans le tableau à la 672^{ème} case (si on le remplit en inscrivant les nombres entiers du tableau dans un ordre croissant à partir de la 1^{ère} case contenant l'entier 1).

On peut alors ensuite remarquer que pour remplir deux lignes, il y a 8 cases. Or $672 = 84 \times 8$! la 672^{ème} case se trouve donc sur la colonne A et sur la 84^{ème} ligne.

A	B	C	D	E
	1	4	7	
22	19	16	13	10
	25	28	31	
46	43	40	37	34
	49	52	55	
70	67	64	61	58

Exercice 4 : d'une distance à l'autre



La correction doit absolument valoriser l'engagement dans une démarche et la réalisation de celle-ci. Ainsi, toute conjecture illustrée par un dessin sera prise en compte dans votre évaluation. Parmi les différentes démarches possibles, l'une d'elles consiste à démontrer que les droites (AE) et (CD) sont parallèles (ACDE est un trapèze) :

Les triangles BCD et CAE sont isocèles respectivement en D et en C donc

$$\cos(\widehat{BCD}) = \frac{2}{3} = \frac{4}{6} = \cos(\widehat{CAE}).$$

Les angles \widehat{BCD} et \widehat{CAE} sont donc égaux et les droites (AE) et (CD) sont parallèles.

Si on appelle C' le milieu du segment [AE] et E' le projeté orthogonal du point E sur la droite (CD), alors CC'EE' est un rectangle avec $CE' = C'E = 4$ et $CC' = EE' = 2\sqrt{5}$.

On obtient la longueur DE dans le triangle rectangle DEE' : $DE = \sqrt{21}$ (on a $DE' = 4 - 3 = 1$)

ELEMENTS DE CORRECTION



MINISTÈRE DE
L'ÉDUCATION NATIONALE

MINISTÈRE DE
L'ENSEIGNEMENT SUPÉRIEUR
ET DE LA RECHERCHE



Olympiades académiques de mathématiques

Classes de quatrième

Concours René Merckhoffer

Jeudi 3 avril 2014

Durée de l'épreuve : 2 heures.

Les calculatrices sont autorisées.

Les quatre exercices sont à traiter. Les candidats sont invités à faire figurer sur les copies les résultats, même partiels, auxquels ils sont parvenus, et les idées qui leur sont venues.

Exercice 1 : des pyramides de Pascal

1. a. On complète l'exemple de pyramide de Pascal donné en exemple par le sujet :

7		2									
7		9	2								
7		16		11	2						
7		23		27		13		2			
7		30		50		40		15		2	

- b. On obtient $L_1 = 9$ sur la 1^{ère} ligne, $L_2 = 18$ sur la 2^{ème} ligne, $L_3 = 36$ sur la 3^{ème} ligne, $L_4 = 72$ sur la 4^{ème} ligne et $L_5 = 144$ sur la 5^{ème} ligne.
On remarque que la somme double lorsque l'on passe d'une ligne à celle située en dessous.

2. Si l'on considère la pyramide de Pascal associée aux nombres entiers $m = 1$ et $n = 1$, alors sur la 1^{ère} ligne la somme des nombres est égale à 2.

D'après la règle vue ci-dessus, la somme des nombres sera égale à :

$4 = 2^2$ sur la 2^{ème} ligne, $8 = 2^3$ sur la 3^{ème} ligne, ..., $256 = 2^8$ sur la 8^{ème} ligne, $512 = 2^9$ sur la 9^{ème} ligne et enfin $1024 = 2^{10}$ sur la dixième ligne.

3. Si on remplit la pyramide de Pascal avec deux nombres entiers positifs m et n , on obtient :

m		n							
m		m+n		n					
m		2m+n		m+2n		n			
m		3m+n		3m+3n		m+3n		n	
m								n	

La somme des nombres de la troisième ligne est égale à $S = 4m + 4n$ et la somme des nombres sur la quatrième ligne est égale à $S' = 8m + 8n = 2(4m + 4n) = 2S$

4. Si on note n le nombre entier inconnu sur la première ligne, on obtient :

3		n									
3		3 + n		n							
3		6 + n		3 + 2n		n					
3		9 + n		9 + 3n		3 + 3n		n			
3		12 + n		46		12 + 6n		3 + 4n		n	

Par conséquent, selon les règles de la pyramide : $(9 + n) + (9 + 3n) = 46$ soit $n = 7$.

On obtient aisément la pyramide en remplaçant n par 7

Exercice 2 : la frise

En assemblant les quatre premières formes (une blanche, une grise claire, une grise foncée puis une hachurée), Christophe a obtenu un motif dont le périmètre est égal à 42cm. Afin de réaliser la frise dans son ensemble, il peut, dans un premier temps, construire dix motifs identiques au précédent. Il doit ensuite les assembler les uns à la suite des autres. Du fait de l'emboîtement des deux pièces (respectivement hachurée et blanche), pour chaque nouveau motif ajouté, le périmètre de l'ensemble augmente de $32 = 42 - 10$.

Au final, lorsqu'il aura assemblé les dix motifs (c'est-à-dire les 40 formes découpées), le périmètre du puzzle sera égale à $P = 42 + 9 \times 32 = 330$ (ou $P = 10 \times 42 - 9 \times 10$)

Exercice 3 : le tableau

De nombreuses propriétés peuvent être observées et conjecturées dans le tableau : l'une d'elles consiste à remarquer que l'on peut parcourir les cases successivement en rajoutant +3 à chaque étape afin d'obtenir la suite des nombres entiers du tableau. En remarquant alors que :

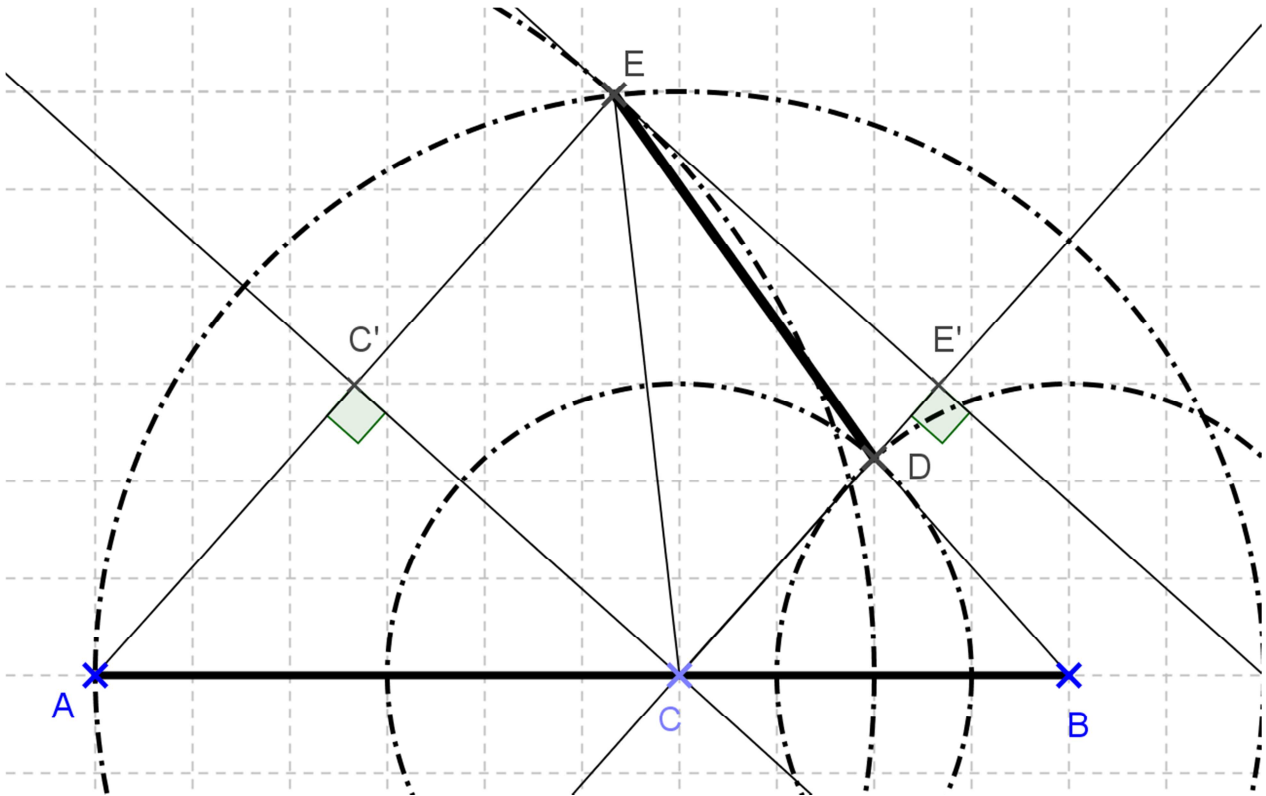
$$2014 = 1 + 671 \times 3$$

On peut affirmer que 2014 se trouvera dans le tableau à la 672^{ème} case (si on le remplit en inscrivant les nombres entiers du tableau dans un ordre croissant à partir de la 1^{ère} case contenant l'entier 1).

On peut alors ensuite remarquer que pour remplir deux lignes, il y a 8 cases. Or $672 = 84 \times 8$! la 672^{ème} case se trouve donc sur la colonne A et sur la 84^{ème} ligne.

A	B	C	D	E
	1	4	7	
22	19	16	13	10
	25	28	31	
46	43	40	37	34
	49	52	55	
70	67	64	61	58

Exercice 4 : d'une distance à l'autre



La correction doit absolument valoriser l'engagement dans une démarche et la réalisation de celle-ci. Ainsi, toute conjecture illustrée par un dessin sera prise en compte dans votre évaluation. Parmi les différentes démarches possibles, l'une d'elles consiste à démontrer que les droites (AE) et (CD) sont parallèles (ACDE est un trapèze) :

Les triangles BCD et CAE sont isocèles respectivement en D et en C donc

$$\cos(\widehat{BCD}) = \frac{2}{3} = \frac{4}{6} = \cos(\widehat{CAE}).$$

Les angles \widehat{BCD} et \widehat{CAE} sont donc égaux et les droites (AE) et (CD) sont parallèles.

Si on appelle C' le milieu du segment [AE] et E' le projeté orthogonal du point E sur la droite (CD), alors CC'EE' est un rectangle avec $CE' = C'E = 4$ et $CC' = EE' = 2\sqrt{5}$.

On obtient la longueur DE dans le triangle rectangle DEE' : $DE = \sqrt{21}$ (on a $DE' = 4 - 3 = 1$)

ELEMENTS DE CORRECTION



MINISTÈRE DE
L'ÉDUCATION NATIONALE

MINISTÈRE DE
L'ENSEIGNEMENT SUPÉRIEUR
ET DE LA RECHERCHE



Olympiades académiques de mathématiques

Classes de quatrième

Concours René Merckhoffer

Jeudi 3 avril 2014

Durée de l'épreuve : 2 heures.

Les calculatrices sont autorisées.

Les quatre exercices sont à traiter. Les candidats sont invités à faire figurer sur les copies les résultats, même partiels, auxquels ils sont parvenus, et les idées qui leur sont venues.

Exercice 1 : des pyramides de Pascal

1. a. On complète l'exemple de pyramide de Pascal donné en exemple par le sujet :

7		2									
7		9	2								
7		16		11	2						
7		23		27		13		2			
7		30		50		40		15		2	

- b. On obtient $L_1 = 9$ sur la 1^{ère} ligne, $L_2 = 18$ sur la 2^{ème} ligne, $L_3 = 36$ sur la 3^{ème} ligne, $L_4 = 72$ sur la 4^{ème} ligne et $L_5 = 144$ sur la 5^{ème} ligne.
On remarque que la somme double lorsque l'on passe d'une ligne à celle située en dessous.

2. Si l'on considère la pyramide de Pascal associée aux nombres entiers $m = 1$ et $n = 1$, alors sur la 1^{ère} ligne la somme des nombres est égale à 2.

D'après la règle vue ci-dessus, la somme des nombres sera égale à :

$4 = 2^2$ sur la 2^{ème} ligne, $8 = 2^3$ sur la 3^{ème} ligne, ..., $256 = 2^8$ sur la 8^{ème} ligne, $512 = 2^9$ sur la 9^{ème} ligne et enfin $1024 = 2^{10}$ sur la dixième ligne.

3. Si on remplit la pyramide de Pascal avec deux nombres entiers positifs m et n , on obtient :

m		n							
m		m+n		n					
m		2m+n		m+2n		n			
m		3m+n		3m+3n		m+3n		n	
m								n	

La somme des nombres de la troisième ligne est égale à $S = 4m + 4n$ et la somme des nombres sur la quatrième ligne est égale à $S' = 8m + 8n = 2(4m + 4n) = 2S$

4. Si on note n le nombre entier inconnu sur la première ligne, on obtient :

3		n									
3		3 + n		n							
3		6 + n		3 + 2n		n					
3		9 + n		9 + 3n		3 + 3n		n			
3		12 + n		46		12 + 6n		3 + 4n		n	

Par conséquent, selon les règles de la pyramide : $(9 + n) + (9 + 3n) = 46$ soit $n = 7$.

On obtient aisément la pyramide en remplaçant n par 7

Exercice 2 : la frise

En assemblant les quatre premières formes (une blanche, une grise claire, une grise foncée puis une hachurée), Christophe a obtenu un motif dont le périmètre est égal à 42cm. Afin de réaliser la frise dans son ensemble, il peut, dans un premier temps, construire dix motifs identiques au précédent. Il doit ensuite les assembler les uns à la suite des autres. Du fait de l'emboîtement des deux pièces (respectivement hachurée et blanche), pour chaque nouveau motif ajouté, le périmètre de l'ensemble augmente de $32 = 42 - 10$.

Au final, lorsqu'il aura assemblé les dix motifs (c'est-à-dire les 40 formes découpées), le périmètre du puzzle sera égale à $P = 42 + 9 \times 32 = 330$ (ou $P = 10 \times 42 - 9 \times 10$)

Exercice 3 : le tableau

De nombreuses propriétés peuvent être observées et conjecturées dans le tableau : l'une d'elles consiste à remarquer que l'on peut parcourir les cases successivement en rajoutant +3 à chaque étape afin d'obtenir la suite des nombres entiers du tableau. En remarquant alors que :

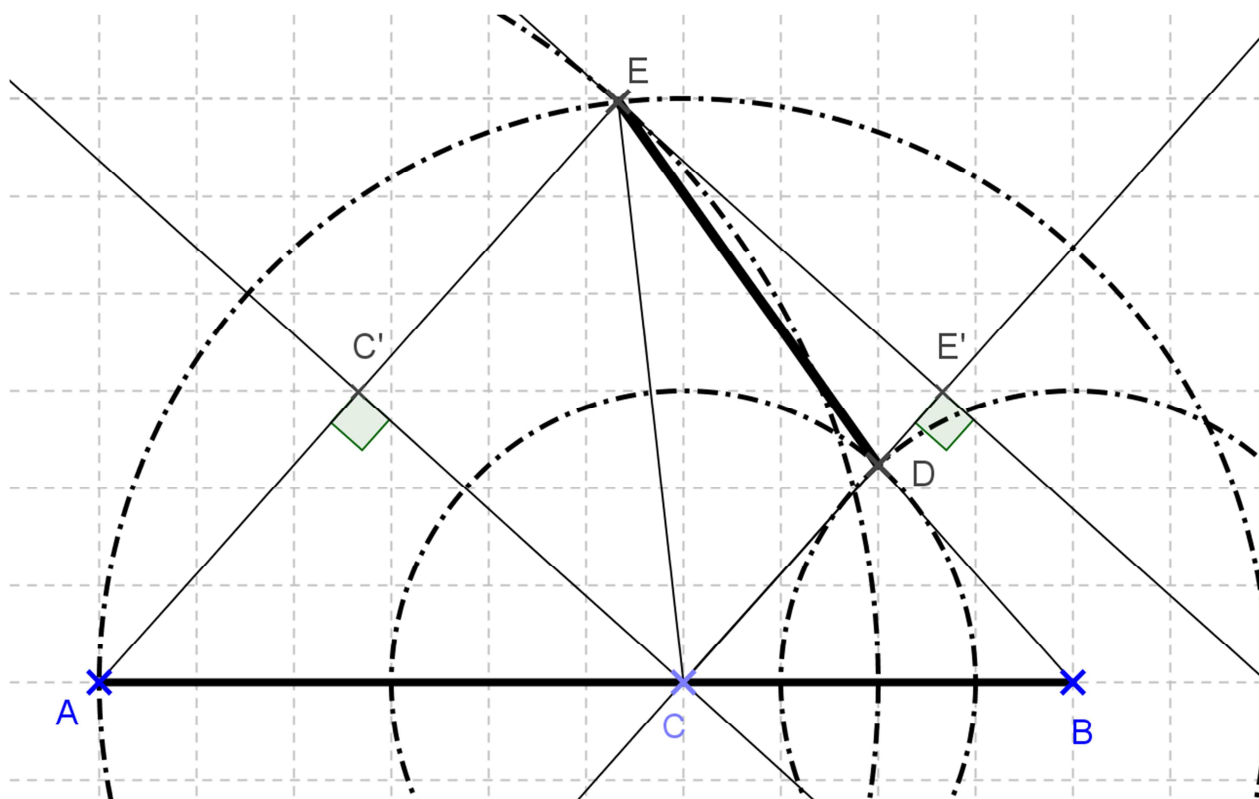
$$2014 = 1 + 671 \times 3$$

On peut affirmer que 2014 se trouvera dans le tableau à la 672^{ème} case (si on le remplit en inscrivant les nombres entiers du tableau dans un ordre croissant à partir de la 1^{ère} case contenant l'entier 1).

On peut alors ensuite remarquer que pour remplir deux lignes, il y a 8 cases. Or $672 = 84 \times 8$! la 672^{ème} case se trouve donc sur la colonne A et sur la 84^{ème} ligne.

A	B	C	D	E
	1	4	7	
22	19	16	13	10
	25	28	31	
46	43	40	37	34
	49	52	55	
70	67	64	61	58

Exercice 4 : d'une distance à l'autre



La correction doit absolument valoriser l'engagement dans une démarche et la réalisation de celle-ci. Ainsi, toute conjecture illustrée par un dessin sera prise en compte dans votre évaluation. Parmi les différentes démarches possibles, l'une d'elles consiste à démontrer que les droites (AE) et (CD) sont parallèles (ACDE est un trapèze) :

Les triangles BCD et CAE sont isocèles respectivement en D et en C donc

$$\cos(\widehat{BCD}) = \frac{2}{3} = \frac{4}{6} = \cos(\widehat{CAE}).$$

Les angles \widehat{BCD} et \widehat{CAE} sont donc égaux et les droites (AE) et (CD) sont parallèles.

Si on appelle C' le milieu du segment [AE] et E' le projeté orthogonal du point E sur la droite (CD), alors CC'EE' est un rectangle avec $CE' = C'E = 4$ et $CC' = EE' = 2\sqrt{5}$.

On obtient la longueur DE dans le triangle rectangle DEE' : $DE = \sqrt{21}$ (on a $DE' = 4 - 3 = 1$)